



ORDU İL MİLLÎ EĞİTİM MÜDÜRLÜĞÜ PROJE İMAM HATİP ORTAOKULLARI SEÇME SINAVI 2020

Kitapçık Türü

A

Adı Soyadı :.....
Sınıfı/Numarası:.....
Okulu :.....

SINAV BAŞLAMADAN ÖNCE AŞAĞIDAKİ YÖNERGEYİ MUTLAKA OKUYUNUZ

- 1.Proje İmam Hatip Ortaokulları Seçme Sınavına ait bu kitapçıkta **Türkçe 15, Matematik 15, Sosyal Bilgiler 10, Fen Bilimleri 15, Din Kültürü ve Ahlak Bilgisi 10, Yabancı Dil (İngilizce) 10 adet** olmak üzere **toplamda 75 soru** bulunmaktadır.
- 2.Sınav **13.30**'da başlayıp **15.10**'da bitecek olup sınav süresi **100** dakikadır.
- 3.Öğrenciler sınav kurallarına ve gözetmenlerin uyarılarına uymak zorundadır.
- 4.Optik formdaki bilgilerinizi doğru şekilde doldurduğunuzu sınava başlamadan önce kontrol ediniz.
- 5.Sınav başladıktan sonra öğrencilerin gözetmen ve birbirleri ile konuşmaları yasaktır.
- 6.Cevaplarınızı optik formda ilgili soru numaralarını dikkate alarak yuvarlağın dışına taşırmadan kodlayınız.
- 7.Değiştirmek istediğiniz bir cevabı yumuşak bir silgi ile cevap kağıdını yıpratmadan siliniz ve yeni cevabı kodlayınız.
- 8.Aynı soru için birden fazla cevap işaretlemeyiniz, tek bir cevap işaretleyiniz.
- 9.Soru kitapçığı üzerinde yapılabilmeyen optik formda işaretlenmeyen cevaplar değerlendirmeye alınmayacaktır.
- 10.Soruları cevaplamaya istediğiniz dersten başlayabilirsiniz.
- 11.Sınavda yanlış doğruyu götürmediği için tüm soruları cevaplayınız.
- 12.Soru kitapçığının içindeki boş alanları soru çözümleri için kullanabilirsiniz.
- 13.Sınav süresince zorunlu haller dışında dışarıya çıkılması yasaktır.
- 14.Sınav bitiminde optik formlar gözetmen öğretmene teslim edilir.

1. Bir rüzgar, bir kağıt parçası insanın hayatını ne kadar değiştirebilir? Muhtemelen “Hiç değiştiremez.” diyeceksiniz. O zaman şu hikayeyi anlatayım, tekrar düşünün! Bir zamanlar sokaklarda sefil ve amaçsız bir şekilde dolaşan çocuk, esen rüzgarla ayağına bir parça kağıdın takıldığını fark etti. Yarısı yırtılmış kağıdı alıp okumaya başladı. Kağıtta bir hikaye yazıyordu ama sayfanın yarısı yırtıldığı için hikayenin devamını okuyamamış ve sonunu çok merak etmişti. Kağıdı cebine koyup kendi kendine hayal kurmaya başladı. Bu çaba onu hikaye yazmaya itmişti. İlk hikayesini bu şekilde yazan çocuk ardından dünyaca ünlü bir yazara dönüşmüştü.

Yukarıdaki metne göre sözü edilen yazar hikaye yazmaya nasıl başlamıştır?

- A) Paraya ihtiyacı olduğu için yazmaya başlamıştır.
- B) Ailesi istediği için yazmaya başlamıştır.
- C) Öğretmeni ödev verdiği için yazmaya başlamıştır.
- D) Ayağına takılan kağıttaki hikayenin sonunu merak ettiği için yazmaya başlamıştır.

2. Ormanlar, yurdumuzun en önemli zenginlik kaynaklarından. Ormanların pek çok yararı vardır. Ağaçlık ve ormanlık yerlere yağmur yağar. Yağmur, bereket demektir. Bitkileri besler, büyütür. Ağaçlar, soluduğumuz havayı temizler. Kirlı havayı alıp temiz hava verir. Ayrıca, kökleriyle toprağı sıkıca tutar. Yağmur sularının toprağı sürüklemesini önler. Masa, sıra, dolap, kapı, pencere gibi şeyler de ağaçtan yapılır. Kağıdın ham maddesi ise yine ağaçtır. Ormanlardaki yaşlı ve kuru ağaçlardan kışlık odunumuzu sağlarız. Ormanlarda kuş, sincap, tavşan, tilki, yaban keçisi gibi pek çok hayvan barınır. Bu yüzden, ormanlarımızı gözümüz gibi korumalıyız.

Yukarıdaki paragrafın ana düşüncesi aşağıdakilerden hangisidir?

- A) Orman vahşi hayvanları barındırır.
- B) Ormanlar pek çok yönden yararlıdır.
- C) Her yere ağaç dikilmelidir.
- D) Yağmur bereket getirir.

3. **Aşağıdaki deyimlerden hangisi anlam bakımından diğerlerinden farklıdır?**

- A) Paniğe kapılmak
- B) Etekleri tutuşmak
- C) Eli ayağı dolaşmak
- D) Ödü patlamak

4. **Aşağıdaki cümlelerde altı çizili kelimelerin hangisi gerçek anlamının dışında kullanılmıştır?**

- A) Eve geç kaldığım için annem öfkesinden kudurdu.
- B) Camdan yansıyan ışık gözlerimi kamaştırdı.
- C) Biraz sonra toprak yola girdik.
- D) Yemekleri elektrikli ocakta pişiriyorlardı.

5. 1. Akıllı düşman, akılsız dosttan hayırlıdır.
2. Paraya az, morale çok ihtiyacımız var.
3. Bedenim yaşlı fakat ruhum hâlâ genç.
4. Olaylara karşı kör ve sağırdır.

Yukarıdaki cümlelerin hangisinde zıt anlamlı sözcükler bir arada kullanılmamıştır?

- A) 1
- B) 2
- C) 3
- D) 4

6. Ansızın şiddetli bir rüzgâr çıktı Antalya’da. Sonbahar mevsiminde hep böyle olurdu. Balkonun yan tarafı kapalı olduğundan Ayşe rüzgârdan etkilenmiyordu. Ağaçlar bir o yana bir bu yana savruluyordu. Birden şiddetli bir şimşek çaktı körfezin kıyısında. Gece yarısı olmasına rağmen her yer aydınlandı. Kulakları sağır edecek kadar şiddetli bir gök gürültüsü duyuldu. Şimşeğin ışığında, körfezin karşı kıyısının kapkara bulutlarla kaplanmış olduğunu gördü.

Bu metinde aşağıdaki sorulardan hangisinin cevabı yoktur?

- A) Ayşe rüzgârdan niçin etkilenmemiştir?
- B) Olay nerede gerçekleşmiştir?
- C) Kahramanın özellikleri nelerdir?
- D) Olay ne zaman yaşanmıştır?

7. Yiğitler dizildi Çanakkale’de,
Oyunlar bozuldu Çanakkale’de,
Bir destan yazıldı Çanakkale’de,
Kaderin kaydıyla bu vatan bizim.

Bu dörtlüğün ana duygusu aşağıdakilerden hangisidir?

- A) Bayrak sevgisi
B) Memleket özlemi
C) Kahramanlık
D) Sevinç
8. **Aşağıdaki cümlelerin hangisinde “mi” nin yazımında yanlışlık yapılmıştır?**
- A) Sana yeniden güvenebilecekmiyim acaba?
B) Bahar geldi mi çiçekler bayram eder dallarda.
C) Yarınki sınava hazır mısınız çocuklar?
D) Bilmez misin ki bu tavırların kırıyor beni?
9. **Aşağıdaki cümlelerin hangisinde kesme işareti (') yanlış kullanılmıştır ?**
- A) Çağrı Bey’in ektirdiği saçlar ona hiç yakışmamış.
B) Önümüzdeki hafta Sümela Manastırı’na gitmeyi düşünüyoruz.
C) Akşam yemeğine Yasin’ler gelecekmiş.
D) Bu şarkıyı geçenlerde Kral FM’de dinlemişim.
10. **Aşağıdaki cümlelerin hangisinde terim anlamlı sözcük kullanılmamıştır?**
- A) Öğretmenimiz tahtaya bir çember çizerek soruyu sordu.
B) Konuyu çok iyi anladığı gözlerinden belliydi.
C) Sözcüğün kökünü bulamayınca bizden yardım istedi.
D) Deprem kuşağında yer alan bölgeler haritada gösterilmiş.

11. 1. Asansör bozuk olunca 5. kata yürüyerek çıktık.
2. 8’inci daire hala satılıkmış.
3. Takımımız turnuvada 1.’inci oldu.
4. Bu, seni 7’inci arayışım.

Numaralanmış cümlelerin hangilerinde sayıların yazımı doğrudur?

- A) 1 ve 2
B) 1 ve 3
C) 2 ve 3
D) 3 ve 4

12. **Aşağıdaki deyimlerden hangisi “Umduğunu elde edemeden geri gelmek.” anlamındadır?**

- A) Eli böğründe kalmak
B) Eli kolu bağlı olmak
C) Eli boş dönmek
D) Eli ağzına yetmemek

13. 1. gücü 2. daha 3. önemlidir
4. hayal 5. bilgiden

Numaralanmış sözcüklerle anlamlı ve kurallı bir cümle oluşturulduğunda sıralama aşağıdakilerden hangisi olur?

- A) 4-1-2-3-5
B) 4-1-5-2-3
C) 1-4-5-2-3
D) 5-2-1-4-3

14. **Aşağıdaki cümlelerin hangisinde özel adların yazımıyla ilgili bir yanlışlık yapılmamıştır?**

- A) Marmaris’li turistler çok eğleniyorlardı.
B) Galatasaray’lı taraftarlar çok mutlu olmuştu.
C) Aydın’lı arkadaşlar yeni bir dernek kuruyorlar.
D) İstanbul’suz bir Marmara gezisi olmaz.

15. **Aşağıdaki tümcelerin hangisinde “ki” bağlaç görevinde kullanılmıştır?**

- A) Seninki bu konuya uygun değil.
B) Evdeki hesap, çarşıya uymaz.
C) Onunki diğer oyunculardan daha eski.
D) Gel ki derdime çare olalım.

1. Beş yüz beş bin beş yüz beş sayısının rakamları toplamı kaçtır?

- A) 15 B) 20 C) 25 D) 30

2. 128mn beş basamaklı doğal sayısı en yakın onluğa yuvarlandığında 12850, en yakın yüzlüğe yuvarlandığında 12800 oluyor.

Buna göre mn iki basamaklı sayısının alabileceği en büyük ve en küçük değerlerin toplamı kaçtır?

- A) 92 B) 93 C) 94 D) 95

3. 99 tane elma yan yana dizilmiştir. Cem bu dizilen elmaların 3 tanesinin yeşil, geri kalanlarının kırmızı olduğunu biliyor. Cem dizilen bu elmalara baktığında yeşil elmaların arasında kırmızı elma olmadığını ve ayrıca yeşil elmaların sağında ve solunda eşit sayıda kırmızı elma olduğunu görüyor.

Buna göre yeşil elmalardan ortada olan elma kaçinci sıradadır?

- A) 49 B) 50 C) 51 D) 52

4. 1, 4, 7, 10, K
 8, 13, 18, 23, L

Yukarıdaki örüntülerde K ve L yerine yazılması gereken sayılar hangi seçenekte doğru verilmiştir?

- | | <u>K</u> | <u>L</u> |
|----|----------|----------|
| A) | 12 | 28 |
| B) | 13 | 27 |
| C) | 12 | 27 |
| D) | 13 | 28 |

5. 4 basamaklı dört doğal sayı toplanıyor. Her birinin binler basamağındaki rakamın değeri 1, onlar basamağındaki rakamın değeri 2 arttırılırsa toplam ne kadar artar?

- A) 4080 B) 3060 C) 2040 D) 1020

6. İki sayının toplamı 253, farkı 45 ise küçük sayı kaçtır?

- A) 104 B) 140 C) 210 D) 410

7. Bir maraton yarışçısı parkuru $4\frac{2}{5}$ saatte tamamlamıştır.

Yarışçı yarışı kaç dakikada tamamlamıştır?

- A) 224 B) 234 C) 244 D) 264

8. Üç sayının toplamı 96'dır. İkinci sayı birinciden 6 fazla, üçüncü sayı da ikinciden 9 fazla olduğuna göre ortanca sayı kaçtır?

- A) 31 B) 34 C) 36 D) 46

9.
$$\begin{array}{r} 3445 \\ - abca \\ \hline 1248 \end{array}$$
 Cem yandaki çıkarma işleminde bir yanlışlık yapıyor ve sonucu bulması gerekenden 145 fazla buluyor.

Buna göre $abca$ sayısının rakamları toplamı kaçtır?

- A) 11 B) 12 C) 13 D) 14

10. **A 90m** Arda bir kenar uzunluğu 90m olan kare şeklindeki tarlanın A köşesinden başlayarak 15m aralıklarla elma ağacı dikmeyi planlıyor.

Buna göre Arda toplamda kaç ağaç dikmiştir?

- A) 22 B) 24 C) 26 D) 28

11. Barış parasının yarısını Kerem'e veriyor, daha sonra Kerem de parasının yarısını harcıyor. Kerem'in ilk durumda 12 lirası, son durumda 15 lirası olduğuna göre **Barış'ın başlangıçta kaç lirası vardı?**

- A) 23 B) 32 C) 36 D) 63

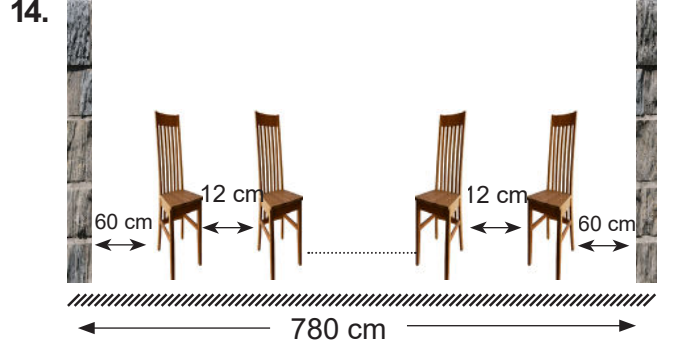
12. A,B,C birbirinden farklı rakamlardır. $5533 > 5AB5 > 54C6$ ise

Bu ifadede ki $A+B+C$ en fazla kaç olabilir?

- A) 7 B) 8 C) 16 D) 18

13. Hangi sayıdan 15 çıkarır, 3'e bölersem 23 elde ederim?

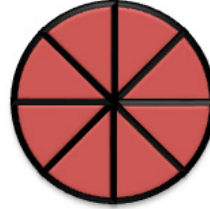
- A) 38 B) 45 C) 69 D) 84



Şekildeki iki duvar arası mesafe 780 cm ve her bir eş sandalyenin genişliği 20 cm'dir. İlk ve son sandalyenin duvara uzaklıkları eşit ve 60 cm'dir. Ardışık iki sandalye arası 12 cm olduğuna göre toplamda kaç sandalye kullanılmıştır?

- A) 20 B) 21 C) 22 D) 23

- 15.



ÇİLEKLİ PASTA



MUZLU PASTA

Mete'nin doğum gününde annesi çilekli, babası muzlu olmak üzere eşit büyüklükte iki pasta almışlardır. Kutlamalardan sonra pastalar ikram edilmek için 8 eş dilime ayrılmıştır. Mete çilekli pastadan 2 dilim yerken muzlu pastadan 3 dilim yemiştir.

Buna göre Mete'nin yediği pasta dilimi sayısının yemediği pasta dilimi sayısına bölümü kaçtır?

- A) $\frac{5}{6}$ B) $\frac{2}{8}$ C) $\frac{5}{11}$ D) $\frac{5}{8}$

1. Yön bulma, özellikle doğayı seviyorsanız ve maceracı bir yapınız varsa oldukça önemlidir. Bu nedenle yön bulma yöntemleri kesinlikle bilinmelidir. Herhangi bir acil durum ya da doğal afette de hayatımızı devam ettirmemiz için yön bulma olgumuzun olması gerekir.

Güneşin konumuna göre yön bulmak ister ve sabahleyin sağ kolumuzu güneşin doğduğu yöne uzatırsak aşağıda verilen bilgilerden hangisi yanlış olur?

- A) Sol kolumuz batı yönünü gösterir.
B) Yüzümüzü döndüğümüz taraf güney yönünü gösterir.
C) Sağ kolumuz doğu yönünü gösterir.
D) Arkamızda kalan yer güney yönünü gösterir.
2. I. Yunanlılara karşı mücadele verildi.
II. Batı Cephesinin ilk komutanı Albay İsmet Bey'di.
III. Düzenli ordunun ilk zaferi I. İnönü'dür.
IV. Mustafa Kemal'e Sakarya Savaşı'ndan sonra Gazi unvanı verildi.
V. Yunanlılar II. İnönü Savaşı'ndan sonra çekildi.

Yukarıda Batı Cephesi ile ilgili verilen bilgilerden hangileri doğrudur?

- A) I-III
B) I-III-IV
C) II-III-V
D) II-IV-V
3. Türk halkı düşmanı yurttan atmak için Kurtuluş Savaşı'nı başlatmış; Doğu, Batı ve Güney Cepheslerinde düşmana karşı mücadele etmiştir. Fransızlar Güney'de Antep, Urfa ve Maraş'ı işgal etmişlerdir. Bölge halkı Fransızlara karşı tek yürek olup mücadele etmiştir.

Sütçü İmam	Antep
Ali Saip Bey	Urfa
Tayyar Rahime	Osmaniye
Şahin Bey	Maraş

Güney Cephesi'nde mücadele eden kahramanlar ile mücadele ettikleri yerleri gösteren tabloda hangi şehirler yer değiştirirse tablo doğru olur?

- A) Antep-Osmaniye B) Urfa-Maraş
C) Maraş-Osmaniye D) Antep-Maraş

4. Öğretmenimizin başlattığı bir proje sayesinde başka ilden bir mektup arkadaşı edindim. İlk mektup heyecan ile kısa oldu. İkinci mektupta siyah saçlı ve siyah gözlü olduğumu, arkadaşlarıma göre biraz uzun boylu olduğumu yazdım. Pandalar hakkında öğrendiğim her şeyi arkadaşlarıma anlatmayı seviyorum dedim. Boyumun avantajı sayesinde okulun basketbol takımında başarılı olduğumu aynı zamanda mahallede futbol takımında kalede çok başarılı olduğumu yazdım. Mektubumun sonunda kendisi ile ilgili bilgiler verirse çok sevineceğimi belirttim.



Mektupta yazılanlardan hangisi Ayşe'nin sahip olduğu ilgidir?

- A) İyi bir kaleci olması
B) Uzun boylu olması
C) Pandalar hakkında bilgi sahibi olması
D) Okul basketbol takımında olması
5. İnsanoğlu var olduğu günden beri çevresindeki doğal unsurlarla etkileşim içindedir. İnsanların yaşam şekilleri değiştikçe doğal unsurlar ihtiyaçlarına cevap verememiş, insanlar kendilerine yeni unsurlar yapmışlardır. Kimi zaman insanların yaptığı beşeri unsurlar doğaya zararda vermiştir. Bilinçli bir insan olup yaşadığımız yerlerde doğal çevreyi korumalıyız.

Aşağıda verilen görsellerden hangisi diğerlerinden farklı bir unsurdur?



Pamukkale



Atatürk Barajı



Uzungöl



Peribacaları

6. İnsanların arasındaki dil, tarih ve kültür birliği milleti oluşturur. Milleti ortak tutan manevi değerler, ortak geçmiş ve yaşayış tarzı gibi unsurların oluşturduğu ortak kimlik olan kültürdür. Türk milletini bir arada tutan ve diğer milletlerden ayıran kültürel değerler vardır.

Aşağıda verilenlerden hangisi kültürel öğelerimize örnek gösterilemez?

- A) Milli bayramlarda el öpülmesi
B) Ramazan akşamları orta oyunu gösterisi
C) Metin'in asker uğurlama gecesinde kına yakılması
D) Dedemin yemekten sonra Türk kahvesi içmesi
7. Herhangi bir fiziksel denemeye gerek olmadan insanın karşısındakini yalnızca düşünce ile anlayabilmesi empati kurması ile olur. Bir başkasının düşünce ve ruh halini anlama çabası ile insanlar empati kurarlar ve bu bir duygu paylaşımıdır.

Aşağıdakilerden hangisi daha az enerji sarf ederek iletişimimizi kuvvetlendiren empatinin faydalarından biri değildir?

- A) Kişiyi çevresini anlama fırsatı sunar.
B) Duyarlı birer insan olmamızı sağlar.
C) Toplumda huzursuzluk ve kargaşayı önler.
D) İnsanların bencil olmasına neden olur.
8. Doğal afetler insanlara zarar veren olaylardır. İnsanların kontrolü dışında gerçekleşir, büyük can ve mal kaybına neden olur. İnsanoğlu doğal afetlere karşı oldukça çaresiz kalmaktadır. Teknolojinin ilerlemiş olması bile doğal afetlerin meydana gelmesini engelleyememektedir.

Aşağıda verilenlerden hangisi doğal afetler ile ilgili doğru bir bilgi değildir?

- A) Heyelanı önlemek için düz araziler mutlaka ağaçlandırılmalıdır.
B) Erozyon, toprak üzerinde bitki örtüsünün kaybolmasına neden olur.
C) Sellerden en az etkilenmek için dere yataklarına ev yapılmamalı.
D) Deprem sırasında asla merdiven kullanılmamalı.

9. Osmanlı Devleti'nin büyük tehditler ile karşı karşıya olduğu bir dönemde çocukluk ve gençlik yıllarını geçiren Mustafa Kemal 19 Mayıs 1919'da Samsun'a gelerek Milli Mücadele'yi başlatmıştır. Mondros Ateşkes Antlaşması ile bağımsızlığını kaybeden Osmanlı Devleti yerine bağımsız bir Türk Devleti kurmak için Türk halkı ile mücadeleye başladı. Erzurum Kongresi'nde vatanın bölünmez bir bütün olduğu vurgulandı. Sivas Kongresi'nden sonra TBMM açıldı ve Mustafa Kemal Milli Mücadele'nin lideri oldu.

Ezgi öğretmenin Kurtuluş Savaşı ile ilgili anlatıklarında aşağıdaki öğrencilerden hangisinin sorusunun cevabı yoktur?

A)



Ceren: TBMM nerede açıldı?

B)



Kerem: Yeni Türk Devleti hangi olayla kuruldu?

C)



Taha: Vatanın bölünemez bir bütün olduğu hangi olayda belirtildi?

D)



Alperen: Mustafa Kemal'in Samsun'a geliş amacı nedir?

10. Türk Milleti tarafından I. Dünya Savaşı'ndan sonra Mustafa Kemal'in liderliğinde Anadolu'da çok büyük bir kahramanlık destanı yazılmıştır. Yokluk içinde verilen Milli Mücadele'nin her bir safhasında ayrı bir kahramanlık yatmaktadır.

Anadolu'da verilen mücadele sırasında aşağıda verilenlerden hangisi en son gerçekleşmiştir?

- A) TBMM'nin açılışı
B) Mustafa Kemal'in Samsun'a çıkışı
C) Cumhuriyetin ilanı
D) Erzurum Kongresi

1. Aşağıdaki görsellerde bazı besinler verilmiştir.



Maydanoz



Süt

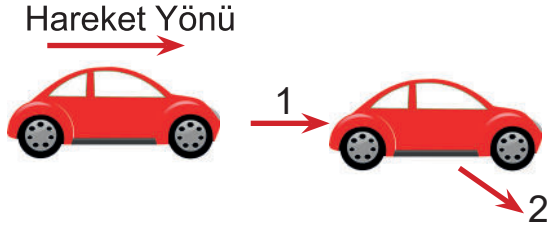


Portakal

Bu besinlerden hangilerinde mineraller bulunur?

- A) Maydanoz
B) Maydanoz ve portakal
C) Süt ve portakal
D) Maydanoz, süt ve portakal

- 2.



Zehra, düz bir zemin üzerinde şekilde gösterilen hareket yönünde ilerlemekte olan oyuncak arabaya önce 1 yönünde kuvvet uyguluyor. Ardından bir süre sonra 2 yönünde kuvvet uyguluyor.

Buna göre oyuncak araba,

- I. Hızlanma,
II. Yavaşlama,
III. Yön değiştirme,

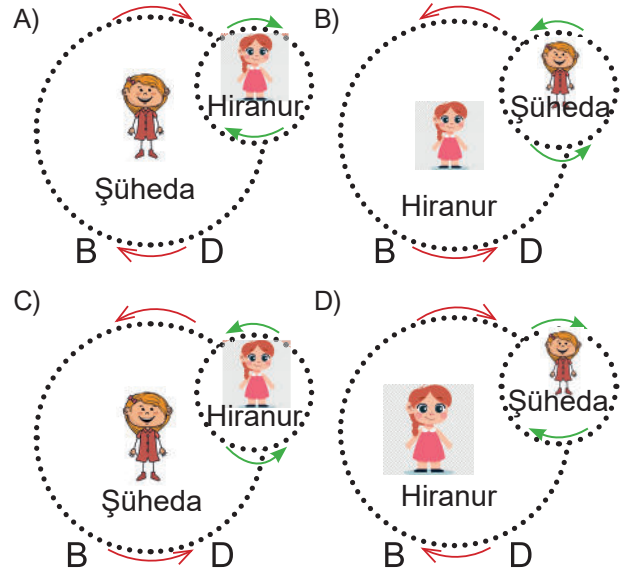
hareketlerinden hangisini ya da hangilerini yapabilir?

- A) Yalnız I
B) I ve II
C) I ve III
D) II ve III

3. Şüheda ve Hiranur, Dünya'nın hareketlerini göstermek için bir etkinlik yapacaklardır. Bu etkinlikte Şüheda Güneş'i temsil ederken Hiranur Dünya'yı temsil edecektir.

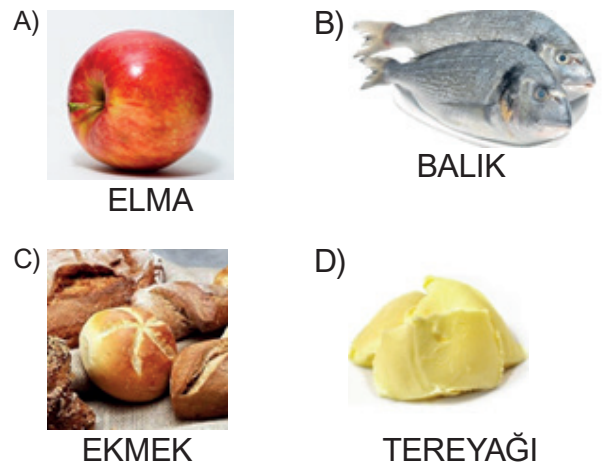
Buna göre bu öğrenciler etkinliği aşağıdakilerden hangisindeki gibi yaparlarsa Dünya'nın hareketlerini doğru göstermiş olurlar?

(Kesikli çizgiler öğrencilerin dönme ve dolanmasını, oklar ise yönleri göstermektedir. D: Doğu, B: Batı)



4. Kerem bahçede top oynarken düşmüş ve kolu yaralanmıştır. Sağlık kuruluşuna giden Kerem'in yarasına doktor dikiş atmıştır. Kerem'e nasıl beslenmesi gerektiğini anlatmıştır.

Kerem'in yarasının hızlı iyileşebilmesi için doktorun önerdiği öncelikli tüketmesi gereken besin maddelerinden biri aşağıdakilerden hangisi olabilir?



Diğer sayfaya geçiniz.

5. 1. Mineraller
2. Yağlar
3. Vitaminler
4. Karbonhidratlar

Yukarıdaki besinlerden hangisi ya da hangileri vücudumuzda enerji verici olarak kullanılır?

- A) Yalnız 4
B) 2 ve 4
C) 1, 2 ve 4
D) 2, 3 ve 4

6. Dünya'nınI..... hareketini tamamlama süresi 365 gün 6 saattir. Bu süreyeII..... denir. Dünya'nınIII..... hareketini tamamlama süresi 24 saattir.

Yukarıda verilen cümlelerde I, II ve III ile gösterilen boşluklara aşağıdakilerden hangileri yazılmalıdır?

- | | | | |
|------------|----------|-----------|------------|
| | <u>I</u> | <u>II</u> | <u>III</u> |
| A) Dönme | 1 Ay | Dolanma | |
| B) Dönme | 1 Yıl | Dolanma | |
| C) Dolanma | 1 Ay | Dönme | |
| D) Dolanma | 1 Yıl | Dönme | |

7. Madde miktarına1..... denir ve ölçü birimlerinden biri2.....
Maddelerin boşlukta kapladığı yere3..... denir ve ölçü birimlerinden biri.....4.....

Yukarıdaki cümlelerde 1, 2, 3 ve 4 ile gösterilen boşluklara gelmesi gereken kavramlar aşağıdakilerden hangisinde doğru verilmiştir?

- | | | | | |
|----------|----------|----------|----------|----------|
| | <u>1</u> | <u>2</u> | <u>3</u> | <u>4</u> |
| A) Kütle | Litre | Hacim | Kilogram | |
| B) Hacim | Litre | Kütle | Kilogram | |
| C) Hacim | Kilogram | Kütle | Litre | |
| D) Kütle | Kilogram | Hacim | Litre | |

8. **Aşağıdakilerden hangisi mıknatısın kullanım alanlarından biri değildir?**

- A) Eşit kollu terazi
B) Pusula
C) Hoparlör
D) Buzdolabı kapağı

9. **Mıknatıslarla ilgili verilen aşağıdaki bilgilerden hangisi doğrudur?**

- A) Uyguladığı kuvvet, temas gerektiren bir kuvvettir.
B) Cam malzemelere çekme kuvveti uygular.
C) Çekim etkisinin en fazla olduğu kısımları kutuplarıdır.
D) Çelik iğneye itme kuvveti uygular.

10. Ece, sınıfa getirdiği kayaçlarla ilgili arkadaşlarına aşağıdaki bilgileri veriyor.

Her kayaç aynı zamanda bir madendir. 1

2 Kayaçların birbirinden farklı olmasını sağlayan, yapılarındaki minerallerdir.

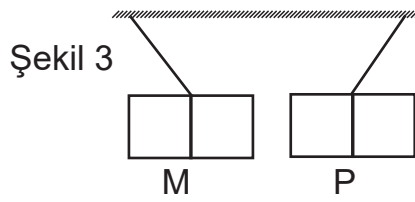
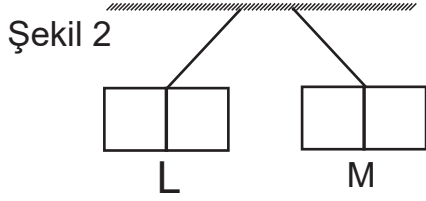
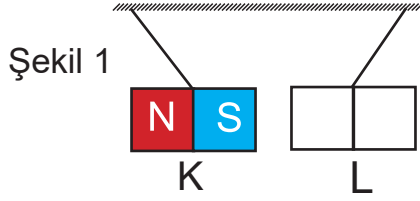
3 Deniz ve okyanus tabanlarında da kayaçlar bulunabilir.

4 Mermer, demir ve bor birer maden çeşididir.

Buna göre Ece'nin verdiği bilgilerden hangisi hatalıdır?

- A) 1 B) 2 C) 3 D) 4

11. K, L, M ve P mıknatısları ikişerli olarak duvara asıldığında aralarındaki itme-çekme durumları şekildeki gibi oluyor.



- Önce K ve L mıknatısları şekil 1'deki gibi asılıyor ve birbirlerini çektikleri gözleniyor.
- Daha sonra L mıknatısının kutup yönleri değiştirilmeden şekil 2'deki gibi M'nin yanına asıldığında birbirlerini ittikleri gözleniyor.
- En son M mıknatısının kutup yönleri değiştirilmeden şekil 3'deki gibi P mıknatısının yanına asılıyor ve birbirlerini çektikleri gözleniyor.

Buna göre L ve P mıknatıslarının kutupları aşağıdakilerden hangisinde doğru verilmiştir?

- A)

L	
S	N

P	
N	S
- B)

N	S
---	---

S	N
---	---
- C)

S	N
---	---

S	N
---	---
- D)

N	S
---	---

N	S
---	---

12. Merve, aşağıdaki malzemelerin suda yüzmeye ve batma durumlarını gözlemlemek için büyük bir kaba su doldurup bu malzemeleri içine atmıştır.



Tahta



Taş




Toplu iğne



Plastik top

Buna göre Merve'nin deneyinde malzemelerin suda duruş şekilleri aşağıdakilerden hangisindeki gibi olabilir?



13. Özellik Var

- Bez
- Sünger
- Plastik poşet

Özellik Yok

- Taş
- Kağıt
- Porselen

Yukarıdaki tablolarda maddeler, bir özelliklerine göre gruplara ayrılmış ve gruplar oluşturulurken bazı maddeler yanlış yerlere yazılmıştır.

Buna göre hangi maddelerin yeri değiştirilirse yanlışlık düzeltilmiş olur?

- A) Sünger-taş
B) Plastik poşet-kağıt
C) Bez-porselen
D) Sünger-porselen

14.



Aşağıda fosillerle ilgili bir tablo verilmiştir.

Canlıların yumuşak kısımlarından oluşur.	Fosilleşme rastlantıya bağlı bir süreçtir.
Kısa zamanda oluşur.	Üst üste biriken kayalar arasında meydana gelir.

Tabloda doğru olan bilgilerin kutucukları boş bırakılıp yanlış olan bilgilerin kutucukları boyanırsa tablonun son görünümü aşağıdakilerden hangisindeki gibi olur?


- A)

 B)

- C)

 D)

15.



70 gram



50 gram Taş

Şekildeki dereceli kabın boş kütlesi 70 gram, yanındaki taşın kütlesi 50 gramdır.

Kaba 150 mL su konulup taş kabın içine atılıyor. Taş dibine battıktan sonra su seviyesinin 175 mL'ye çıktığı gözleniyor.



Şekildeki gibi son durumda kap, içindeki su ve taş ile birlikte hassas teraziye konulduğunda kütle 270 gram olarak ölçülüyor.

Buna göre taşın hacmi ve kaba konulan suyun kütlesi aşağıdakilerden hangisinde doğru verilmiştir?

- | | Taşın hacmi | Suyun kütlesi |
|----|-------------|---------------|
| A) | 25 mL | 200 g |
| B) | 20 mL | 150 g |
| C) | 25 mL | 150 g |
| D) | 20 mL | 200 g |

1. Emir, otobüse binerken zorlanmakta olan Osman amcanın yardımına koşarak onun güvenli bir şekilde yerine oturmasına yardımcı olmuştur.

Bu durumda Osman amca kendisine yaptığı iyilik karşısında Emir'e aşağıdakilerden hangisini söylemiş olabilir?

- A) Allah razı olsun.
B) Allah sabır versin.
C) Allah yardım etsin.
D) Allah şifa versin.

2. "Âmentü billâhi ve melâiketihî ve kütübihî ve rusulihî ve'l-yevmi'l-âhiri ve bi'l-kaderi hayrihî ve şerrihî minallâhi Teâlâ ve'l ba'sü ba'de'l-mevti hakkun. Eşhedü enlâ ilâhe illallah ve eşhedü enne Muhammeden abdühû ve resûlüh."

Amentü duası ile ilgili aşağıdakilerden hangisi yanlıştır?

- A) Amentü, "inandım, iman ettim" anlamına gelen Arapça bir ifadedir.
B) Amentü duasında dinimizin iman esasları sıralanır.
C) Amentü duasında İslam'ın şartları sıralanır.
D) Bu dua, kelime-i şehadetin söylenişiyle sona erer.

3. Salavat; Peygamberimizin (s.a.v.) adı anıldığında ya da duyulduğunda söylenen dua ifadesidir. Hz. Peygamber'in (s.a.v.) sağlığında onun sıhhat ve afiyet içerisinde olmasını arzu etmek, Allah (c.c.) katındaki derecesinin daha da artmasını istemek ve Allah'ın (c.c.) ona olan bağışlarının ahirette çoğalmasını dilemek için söylenen dua cümlesidir. Salavata, salât-ü selam da denilmektedir.

Aşağıdakilerden hangisi bir salavat örneği değildir?

- A) "Allâhümme salli alâ Muhammedin ve alâ âli Muhammed"
B) "Esselamü aleyküm ve rahmetullah"
C) "Sallallâhu aleyhi ve sellem"
D) "Essalâtü vesselâmü aleyke yâ Resûlallah"

4. I. Yeni bir ev alana "Hayırlı olsun. Güle güle oturun."
II. Birinden ayrılırken "Allah'a emanet ol."
III. Olmasını istemediğimiz bir şey için "Allah korusun."
IV. Hastalanan bir kimseye: "Allah çok versin."

Numaralandırılmış dua ifadeleri ve söylendiği durumlardan hangisi yanlış eşleştirilmiştir?

- A) I B) II C) III D) IV

5. "Her canlı ölümü tadacaktır. Sonunda bize döndürüleceksiniz." (Ankebût Suresi, 57. Ayet)

"Her canlı ölümü tadacaktır. Ancak kıyamet günü yaptıklarınızın karşılığı size tastamam verilecektir." (Âl-i İmrân Suresi, 185. Ayet)

Bu ayetler İslam'ın inanç esasları düşünüldüğünde aşağıdakilerden hangisi ile ilişkilendirilir?

- A) Ahirete iman
B) Kitaplara iman
C) Allah'a iman
D) Peygamberlere iman

6. - İslam'ın şartlarından biridir.
- Farz olması için akıllı ve ergen olmanın yanı sıra sağlıklı olmak da gerekir.
- Belirlenmiş bir zaman diliminde yemeden ve içmeden uzak durularak yapılır.

Özellikleri verilen bu ibadet aşağıdakilerden hangisidir?

- A) Namaz B) Hac
C) Oruç D) Zekat

7. Yüce kitabımız Kur'an, bölümler hâlinde ve belli bir süreç içerisinde indirilmiştir. Bu süreçte indirilen ayet ve sureler, Kur'an kitap hâline getirilirken rastgele dizilmemiştir. Kutsal kitabımızda yer alan ayet ve surelerin bir diziliş sistemi, kendine has bir sıralaması ve adlandırması vardır. Kur'an-ı Kerim; ayet, sure, cüz gibi bölümlerden oluşur. Buna da Kur'an'ın iç düzeni denir.

Aşağıdakilerden hangisinde Kur'an-ı Kerim'in iç düzeniyle ilgili yanlış bir bilgi verilmiştir?

- A) Ayet: Sureleri meydana getiren, bir veya birkaç cümleden oluşan ilahi sözlere denir.
B) Sure: Kur'an-ı Kerim'in besmelelerle birbirinden ayrılmış olan 114 bölümünden her birine denir.
C) Cüz: Kur'an-ı Kerim'in on sayfadan oluşan otuz bölümünden her birine denir.
D) Durak: Ayetleri birbirinden ayıran özel işaretlere denir.

8. Hz. Ali'nin (r.a.) "Cömert ol ama müsrif olma, tutumlu ol ama cimri olma. Yalancıyla arkadaşlıktan sakın. Kişinin kendini beğenmesi en büyük yalnızlıktır." tavsiyeleri vardır.

Bu tavsiyelere uyan bir Müslümanın aşağıdakilerden hangisini yapması beklenmez?

- A) Muhtaç olanlara yardım etmesi
B) Alçakgönüllü olması
C) Dürüst olması
D) İsraf etmesi

9. "Allâhü ekber" ifadesi aşağıdaki dini kavramlardan hangisine aittir?

- A) Salavat
B) Tekbir
C) Besmele
D) Tevhit

10.

Tanım		Kavram	
Dinimizin kullanılmasına, yapılmasına, yenilip içilmesine izin verdiği şeylere denir.	1	a	Günah
Kişinin iman, ibadet, ahlak ve tüm güzel davranışlarının karşılığı olarak Yüce Allah tarafından kendisine verilen ödüle denir.	2	b	Helal
Dinimizce yasaklanmış olan iş ve davranışlara denir.	3	c	Salih Amel
Dinimizde kişiye ve topluma faydalı olmak amacıyla yapılan güzel iş ve davranışlara denir.	4	d	Sevap

Yukarıdaki tabloda bazı dini kavramlar ve tanımları verilmiştir.

Aşağıdakilerden hangisinde bu kavramlar ile tanımları doğru eşleştirilmiştir?

- A) 1b, 2d, 3a, 4c
B) 1b, 2d, 3c, 4a
C) 1c, 2a, 3b, 4d
D) 1c, 2d, 3b, 4a

1.



Mete: Give me the pencil, please.

Burcu: - - - - .

Mete: The pencil, please.

Burcu: Here you are.

Mete: Thank you.

Burcu: You're welcome.

Yukarıdaki konuşma metninde boş bırakılan yere gelmesi gereken ifade aşağıdakilerden hangisidir?

- A) Open the window, please.
- B) Clean the board, please.
- C) Give me the book, please.
- D) Say that again, please.

2.

$$37 - 10 = \dots$$

$$27 + 15 = \dots$$

$$42 + 8 = \dots$$

Aşağıdakilerden hangisi yukarıdaki işlemlerin sonuçlarından biri değildir?

- A) fifteen
- B) twenty-seven
- C) fifty
- D) forty-two

3.



Teacher

Where is Sinop?

Ahmet: It's in the south.

Fatma: It's in the north.

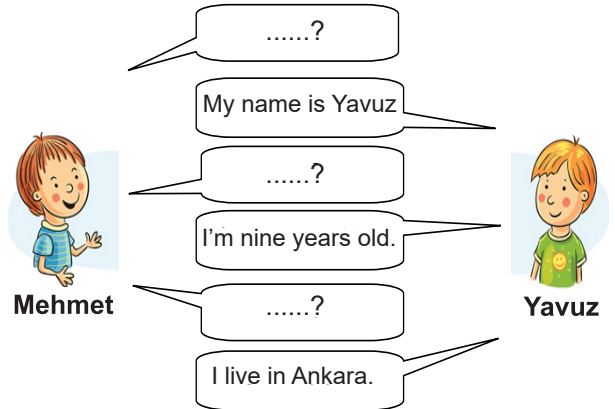
Hasan: It's in the west.

Merve: It's in the east.

Öğretmenin yukarıdaki sorusuna doğru cevabı veren öğrenci aşağıdakilerden hangisidir?

- A) Ahmet
- B) Fatma
- C) Hasan
- D) Merve

4.



Mehmet

Yavuz

Aşağıdakilerden hangisi Mehmet'in sorduğu sorulardan biri değildir?

- A) Where is Ankara?
- B) What is your name?
- C) Where do you live?
- D) How old are you?

5.



turn blue	X
be invisible	✓
help people	✓
climb	X
fly	✓

Masterman

Yukarıdaki tabloya göre aşağıdakilerden hangisi Masterman'ın yetenekleri hakkında doğru bilgi vermektedir?

- A) Masterman can be invisible, and he can climb.
 B) He can turn blue, and he can fly.
 C) He can help people, but he can't climb.
 D) He can't fly, but he can turn blue.

6.



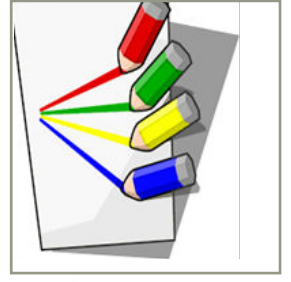
I can skate, and I can do my puzzle.

Yasemin

Yasemin'in yetenekleri doğrultusunda kullandığı araçlar hangi seçenekte doğru verilmiştir?

- A) |
- B) |
- C) |
- D) |

7.



I like - - - - , but I dislike - - - - .

Görseldeki bilgilere göre cümlede yer alan boşluğa uygun gelen ifadeyi işaretleyiniz.

- A) sliding / dancing
 B) drawing / swimming
 C) singing / drawing
 D) reading / sliding

8.

What do you like doing?

I like playing - - - - .



Konuşma balonundaki cümlede boş bırakılan yere aşağıdakilerden hangisi getirilemez?

- A) chess
 B) tennis
 C) football
 D) bike

9.

1. Close	a. the pencil.
2. May I	b. to me.
3. Listen	c. the door.
4. Give me	d. come in?

Doğru eşleştirmenin verildiği seçeneği işaretleyiniz.

- A) 1a - 2c - 3b - 4d
 B) 1d - 2b - 3c - 4a
 C) 1d - 2a - 3b - 4c
 D) 1c - 2d - 3b - 4a

10.



in the morning	✓	✓		
in the afternoon				✓
in the evening			✓	

Yukarıdaki tabloda verilen bilgilere göre aşağıdakilerden hangisi doğrudur?

- A) I brush my teeth in the morning and I eat breakfast in the afternoon.
 B) I watch TV in the morning and I do homework in the afternoon.
 C) I do homework in the afternoon and I watch TV in the evening.
 D) I eat breakfast in the afternoon and I do homework in the evening.