

6) Aşağıdakilerden hangisinde "karşılaştırma" yapılmıştır?

- A) Hediye olarak gömlek ve kravat almış.
- B) Günümüzde bilgiye ulaşmak daha hızlı hale geldi.
- C) Kitap okumayı sevdiğini biliyorum.
- D) Çocuklarını okutmak için çalışıyordu.

17) "Şemsiyemi alacaktım ama"

Bu cümle aşağıdakilerden hangisi ile tamamlanamaz?

- A) bir türlü bulamadım.
- B) yine okulda unutmuşum.
- C) benden önce kardeşim almış.
- D) iyi ki aldım.


18) Ben dondurmayı çok severim.

İlkbaharda ağaçlar çiçek açar.

Bu bina sekiz katlıdır.

Bodrum en güzel tatil yeridir.

Yukarıdaki tabloda öznel yargılı tümceler maviye, öznel yargılı tümceler sarıya boyanırsa tablo hangisi gibi olur?



ÇİÇEK



BALIK



DONDURMA



ÇİLEK



19) Yukarıdaki görsellerin isimlerini sözlük sırasına göre sıralarsak 4. sözcük hangisi olur?

- A) Dokuz
- B) Çiçek
- C) Dondurma
- D) Balık

20) Aşağıdaki tümcelerin hangisinde geçen eylem farklı bir zamanda yapılmıştır?

- A) Kardeşimle oyun oynadım.
- B) Üç gün sonra geleceğim.
- C) Haftaya teyzemler bize gelecek.
- D) Gelecek yıl 5. sınıfa gideceğim.

Bu Testte 20 Soru Yer almaktadır

1) 3545 sayısının en yakın yüzlüğe yuvarlanmış şekli aşağıdakilerden hangisidir?

- A) 3540 B) 3500
C) 3550 D) 3600

2) Eksileni, çıkan ve farkının toplamı 460 olan bir çıkarma işleminde eksilen sayı kaçtır ?

- A) 230 B) 220 C) 210 D) 200

3) Bir dede ile torunun yaşları toplamı 99'dur. Dedenin yaşı torununun yaşının 8 katı olduğuna göre, torunun yaşının 3 katı kaçtır ?

- A) 11 B) 27 C) 30 D) 33

4) Bir eşkenar üçgen ile bir karenin çevreleri birbirine eşittir. Eşkenar üçgenin bir kenarı 16 cm olduğuna göre karenin bir kenar uzunluğu kaç cm'dir ?

- A) 10 B) 12 C) 14 D) 16

5) Aşağıdakilerden hangisi 5 metreye eşit değildir ?

- A) 0,005 km B) 0,05 dam
C) 50 dm D) 5000 mm

6) Bir torba gübrenin ağırlığı 50 kg'dır. Bir çiftçi bahçesinde 8 ton gübre kullandığına göre kaç torba gübre kullanmıştır ?

- A) 160 B) 170 C) 200 D) 400

7) $\frac{3}{8}, \frac{3}{16}, \frac{3}{4}, \frac{3}{12}$ yandaki kesirlerin büyükten küçüğe doğru sıralanışı aşağıdakilerden hangisidir ?

A) $\frac{3}{8}, \frac{3}{4}, \frac{3}{12}, \frac{3}{16}$ B) $\frac{3}{16}, \frac{3}{12}, \frac{3}{8}, \frac{3}{4}$

C) $\frac{3}{4}, \frac{3}{8}, \frac{3}{12}, \frac{3}{16}$ D) $\frac{3}{4}, \frac{3}{8}, \frac{3}{16}, \frac{3}{12}$

8) Harun, parasının $\frac{3}{8}$ 'i ile kitap almıştır. Geriye kalan parası 25 TL olduğuna göre kitap için harcadığı para kaç TL'dir ?

A) 15 B) 10 C) 5 D) 20

9) Meryem'in boyu 1,52 m, Alperen'in boyu 1,73 m'dir. Alperen'in boyu Meryem'in boyundan kaç metre daha uzundur?

A) 0,19 B) 0,18 C) 0,20 D) 0,21

10) 2002'den 2018'e kadar kaç artık yıl vardır?

A) 3 B) 4 C) 5 D) 6

11) Aşağıdaki dönüşümlerden hangisi yanlıştır?

A) 5 kg 3 g = 5003 g
B) 303 kg 57 g = 303057 g
C) 3333000 g = 3333 kg
D) 1503 g = 15 kg 3 g

12) 5 t 3 kg kaç kilogramdır ?

A) 5003 B) 305 C) 503 D) 3005

13) Aybike parasının $\frac{3}{13}$ ile çanta $\frac{2}{13}$ ü ile silgi almıştır.

Aybike parasının ne kadarını harcamıştır ?

A) $\frac{7}{13}$ B) $\frac{11}{13}$
C) $\frac{9}{13}$ D) $\frac{5}{13}$

14) Ordu'dan evimize $\frac{7}{9}$ kilogram fındık almıştık. Bu fındığın $\frac{2}{9}$ 'u tüketildi. Geriye kaç kilogram fındık kalmıştır ?

- A) $\frac{3}{9}$ B) $\frac{4}{9}$ C) $\frac{5}{9}$ D) $\frac{6}{9}$

15) $145 - 140 - 143 - 138 - \dots - 136 - 139$ yandaki örüntüde noktalı yere hangi sayı gelmelidir?

- A) 140 B) 141 C) 142 D) 143

16) Altı basamaklı rakamları farklı en büyük doğal sayı kaçtır ?

- A) 990 999 B) 123 456
C) 998 766 D) 987 654

17) Aşağıdaki harflerden hangisinin simetri doğrusu çizilemez ?

- A) M B) H C) O D) Z

18) 132 cm uzunluğundaki bir telden, tel artırmamak koşuluyla yapılan küpün bir kenar uzunluğu kaç cm'dir ?



- A) 9 B) 10 C) 11 D) 12

19) Bir satıcı 80 litre suyu, 50 mililitrelik şişelere boşaltacaktır. Satıcının elinde 400 şişesi olduğuna göre kaç şişesi eksiktir ?

- A) 1000 B) 1200
C) 120 D) 1600



20) Yukarıdaki örüntüde soru işareti (?) yerine hangi şekil gelmelidir?



Bu Testte 10 Soru Yer almaktadır

1) Alışverişe giderken liste yapılması ne gibi bir fayda sağlar?

- A) Ürünlerin taşınmasını kolaylaştırır.
- B) Ucuz olanı almamızı sağlar.
- C) İhtiyaçlarımızı eksiksiz almamızı sağlar.
- D) Gereksiz para harcamamızı sağlar.

2) "..... yapımında kullanılan ham madde....." Yukarıdaki cümlede noktalı yerlere hangi seçenekteki sözcükler sırasıyla getirilemez?

- A) Un – buğdaydır
- B) İplik – pamuktur
- C) Peynir – yoğurttur
- D) Yağ – ayçiçeğidir

3) Aşağıdaki ülkeler ortak özelliklerine göre gruplandırılırsa hangisi dışta kalır?

- A) Özbekistan
- B) Azerbaycan
- C) Kırgızistan
- D) Bulgaristan

4) Umut'un dedesi çocukluğunda oynadığı oyunları anlatıyordu. Umut'un dedesi aşağıda verilen oyunlardan hangisini çocukluğunda oynamamıştır?

- A) Bilgisayar oyunları
- B) Topaç
- C) Çelik çomak
- D) Cirit oyunu

5) Milli Mücadele sırasında oluşan gelişmeleri doğru olarak sıralanışı hangisidir?

- I. Sivas'ta kongre toplandı.
- II. Mustafa Kemal Atatürk Samsun'a çıktı.
- III. Cumhuriyet ilan edildi.
- IV. Türkiye Büyük Millet Meclisi açıldı.
- V. Erzurum 'da kongre toplandı.

- A. I, II, III, IV, V
- B. II, V, I, IV, III
- C. II, V, I, III, IV
- D. II, IV, V, III, I

6) Atmosferde oluşan sıcaklık, yağış, basınç, nem ve rüzgâr gibi hava olaylarının uzun yıllarda belirlenen ortalama özelliklerinedenir."

Yukarıdaki tanımda noktalı yere aşağıdaki sözcüklerden hangisi gelmelidir?

- A) Hava durumu
- B) İklim
- C) Mevsim
- D) Meteoroloji

7) Aşağıdakilerden hangisi yön bulma yöntemlerinden değildir?

- A) Kutup yıldızına bakmak
- B) Pusula kullanmak
- C) Karınca yuvalarına bakmak
- D) Yosunların rengine bakmak

8) Aşağıdaki ülke-başkent eşleştirmelerinden hangisi doğrudur?

Japonya

Roma

İngiltere

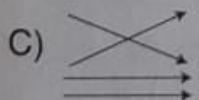

Londra

Meksika

Mexico

İtalya

Tokyo



9) Atalarımızdan kalan camiler, hanlar, hamamlar, köprüler, medreseler millî kültürümüzü oluşturan öğelerdendir.

Yukarıda örnekleri verilen kültürel unsur aşağıdakilerden hangisidir?

- A) El sanatları
- B) Halk oyunları
- C) Mimari eserler
- D) Tören ve kutlamalar

10) 15 Temmuz darbe girişiminin seyrini değiştiren kahraman askerimizin adı aşağıdakilerden hangisidir?

- A) Ömer Halisdemir
- B) Kazım Karabekir
- C) Fevzi Çakmak
- D) Seyit Onbaşı

Bu Testte 20 Soru Yer almaktadır

1) Aşağıdakilerden hangisi iskeletimizin kısımlarından biri değildir ?

- A) Kollar ve bacaklar
- B) Kafatası
- C) Akciğer
- D) Göğüs kafesi

2) Uygulanan kuvvet ortadan kaldırıldığında aşağıdakilerden hangisinin şekli ilk haline dönmez ?

- A) Oyun hamuru
- B) Sarmal yay
- C) Sünger
- D) Paket lastiği

3) 180 mililitre suyla dolu olan bir dereceli kabın içerisine bir taş parçası atıldıktan sonra dereceli kaptaki su seviyesi 225 mililitreyi gösteriyor. Buna göre taş parçasının hacmi kaç mililitredir?

- A) 405 ml
- B) 225 ml
- C) 45 ml
- D) 50 ml

4) Aşağıdaki karışımlardan hangisi süzme yöntemiyle ayrıştırılabilir?

- A) Tuz – Nohut karışımı
- B) Çakıl – Talaş karışımı
- C) Su – Mercimek karışımı
- D) Pirinç – Un karışımı

5) Sıcaklığı aşağıda verilenlerden hangisiyle ölçeriz?

- A) Termometre
- B) Manometre
- C) Barometre
- D) Dinamometre

6) Aşağıdakilerden hangisi yanlıştır?

- A) Erime; katı maddelerin ısı alarak sıvı hale geçmesidir.
- B) Karşımı oluşturan maddeler özelliklerini kaybetmezler.
- C) Sıvı maddelerin ısı alarak gaz haline geçmesine buharlaşma denir.
- D) Maddenin ısı alarak sıcaklığının yükselmesine donma denir.

7) İçine su doldurulan sürahinin, darası 40 gram brüt kütlesi 740 gram gelmiştir. Buna göre suyun net kütlesi kaç gramdır?

- A) 7800g B) 700g C) 630g D) 150g

8) Aşağıdakilerden hangisi saf bir maddedir?

- A) Şerbet B) Tuzlu su
C) Yağmur suyu D) Ayran

9) Aşağıdakilerden hangisi ışık kaynağı değildir?

- A) Güneş B) Mum
C) Ay D) Yıldızlar

10) Aşağıdakilerden hangisi uyarı amaçlı kullanılır?

- A) Sokak Lambası
B) Florasan Lamba
C) Ampul
D) Trafik Lambası

11) Ses kirliliği insan vücudunda aşağıdaki rahatsızlıklardan hangisine sebeptir?

- A) Stres (öfke)
B) Sinirlilik
C) Baş ağrısı
D) Ciltte kızarıklık

12) Basit bir elektrik devresinde elektriği kontrol eden devreyi açan veya kapatan devre elemanı aşağıdakilerden hangisidir?

- A) Pil B) Anahtar C) Duy D) Kablo



ORDU
İL MİLLİ EĞİTİM MÜDÜRLÜĞÜ
ÖLÇME DEĞERLENDİRME MERKEZİ

BÜYÜKŞEHİR ANADOLU İMAM HATİP LİSESİ
İMAM HATİP ORTAOKULU

SEÇME SINAVI

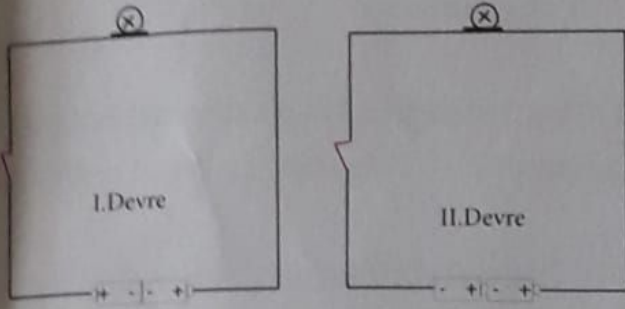
A

Kitapçık Türü

TC KİMLİK NUMARASI:	
ADI :	
SOYADI :	
OKULU :	
NO :	

SINAVA BAŞLAMADAN ÖNCE AŞAĞIDAKİ UYARILARI MUTLAKA OKUYUNUZ

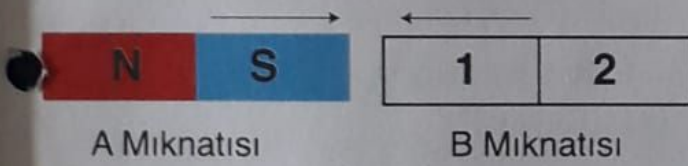
1. T.C Kimlik Numaranızı, Adınızı, Soyadınızı, Salon ve Sıra Numaranızı Soru Kitapçığı Üzerindek İlgili Yere Yazınız.
2. Optik formdaki Kurum Kodu, Kitapçık Türü, Alan, T.C. Kimlik No, Adı Soyadı, bölümlerinin eksik veya yanlış kodlanmasının sorumluluğu size aittir.
3. Bu sayfanın arkasında yer alan açıklamayı dikkatle okuyunuz.



18) Yukarıdaki devrelerde ampullerin yanması ile ilgili verilen bilgilerden hangisi doğrudur?

- A) Yalnız I. Devredeki ampul yanar.
 B) Yalnız II. Devredeki ampul yanar.
 C) Her iki devredeki ampul de yanar.
 D) Her iki devredeki ampul de yanmaz.

19) Şekilde görüldüğü gibi iki mıknatıs birbirini çektğine göre aşağıda verilenlerden hangisi doğrudur?



- A) 1 numaralı kutup "N" kutbudur.
 B) 2 numaralı kutup "SN" kutbudur.
 C) 1 numaralı kutup "S" kutbudur.
 D) 1 numaralı kutup "NS", kutbudur.

Burun

Gırtlak

Akciğer

Soluk Borusu

Yutak

20) Ali, yukarıdaki kutucukları yanyana dizerek bir tren yapmak istiyor. Kullanacağı kutucuklar solunumda yer alan yapı ve organları simgelemektedir. Havanın soluk alırken izlediği yolu, doğru sırayla gösteren tren modeli aşağıdakilerden hangisidir?

- A) B G Y S A B) B Y G S A
 C) B Y S G A D) B S G Y A

Bu Testte 10 Soru Yer Almaktadır

1) Veli: Besmele ile Allah'tan yardım dileriz.

Ahmet: İşlerimize başlarken söyleriz.

Fatıma: İşlerimizin bereketlenmesini ve çoğalmasını sağlar.

Resul: Besmele sadece namaz kılarken söylenir.

Yukarıda bazı öğrencilerin besmele ile ilgili görüşlerine yer verilmiştir. Hangi öğrencinin görüşü doğru olarak **kabul edilemez?**

- | | |
|-----------|----------|
| A) Fatıma | B) Veli |
| C) Ahmet | D) Resul |

2) Allah'ım! Sen eksik ve noksan sıfatlardan uzaksın. Sana hamd ederiz. Senin ismini yüceltiriz. Senin şanın her şeyden üstündür (Senin övgün yücedir. Senden başka ilah yoktur.

Sübhaneker duasında aşağıdakilerden **hangisine değinilmiştir?**

- A) Allah'ın özelliklerine
- B) Hz. Muhammed son peygamberdir.
- C) Allah'tan başka ilahlar da vardır
- D) Dua etmenin önemine

3) Kalp temizliği aşağıdakilerden hangisi ile sağlanır?

- A) Düzenli spor yapmakla
- B) Kalp sağlığına uygun beslenmekle
- C) Kalbimizi kötü duygulardan arındırmakla
- D) Stres yapan davranışlardan kaçınmakla

4) "Hamt (övme ve övülme âlemlerin Rabb'i olan Allah'adır. O, Rahmân ve Rahîmdir. Hesap gününün sahibidir. Yalnızca sana kulluk eder ve yalnızca senden yardım dileriz. Bizleri doğru yola ilet. Kendilerine nimet verdiklerinin yoluna. Gazaba uğramışların ve sapmışların yoluna değil." (Fatiha suresi)

Fatiha suresi için aşağıdakilerden hangisi **söylenebilir?**

- A) Peygamberlerden bahsetmektedir.
- B) Dua içerikli bir suredir.
- C) Namazın nasıl kılınacağı açıklanmıştır.
- D) Evrenin bir gün yok olacağı bildirilmiştir.

5) Hz. Muhammed (SAV) ile ilgili verilen bilgilerden **hangisi yanlıştır?**

- A) Hz. Muhammed (SAV), babası ile güzel vakitler geçirmiştir.
- B) Hz. Muhammed (SAV), 6 yaşında annesini kaybetmiştir.
- C) Hz. Muhammed (SAV) 25 yaşına kadar amcasının yanında kalmıştır.
- D) Hz. Muhammed'in (SAV), süt annesi Halime'dir.

6) Kur'an'ın evrensel bir kitap olması neyi ifade etmektedir?

- A) Kur'an'ın başka dillere çevirisinin olmasını
- B) Dilinin Arapça olmasını
- C) Okunmasının kolay olmasını
- D) Tüm insanlığa gönderilmiş olmasını

7) " Ben şahitlik ederim ki, Allah'tan başka ilah yoktur, ve yine şahitlik ederim ki,Hz. Muhammed Allah'ın kulu ve elçisidir." Yukarıdaki cümle aşağıdakilerden hangisinin Türkçe anlamıdır?

- A)Subhaneke'nin
- B)Kelime-i Şehadet'in
- C)Fatiha Suresi'nin
- D)Kelameyi Tevhidin

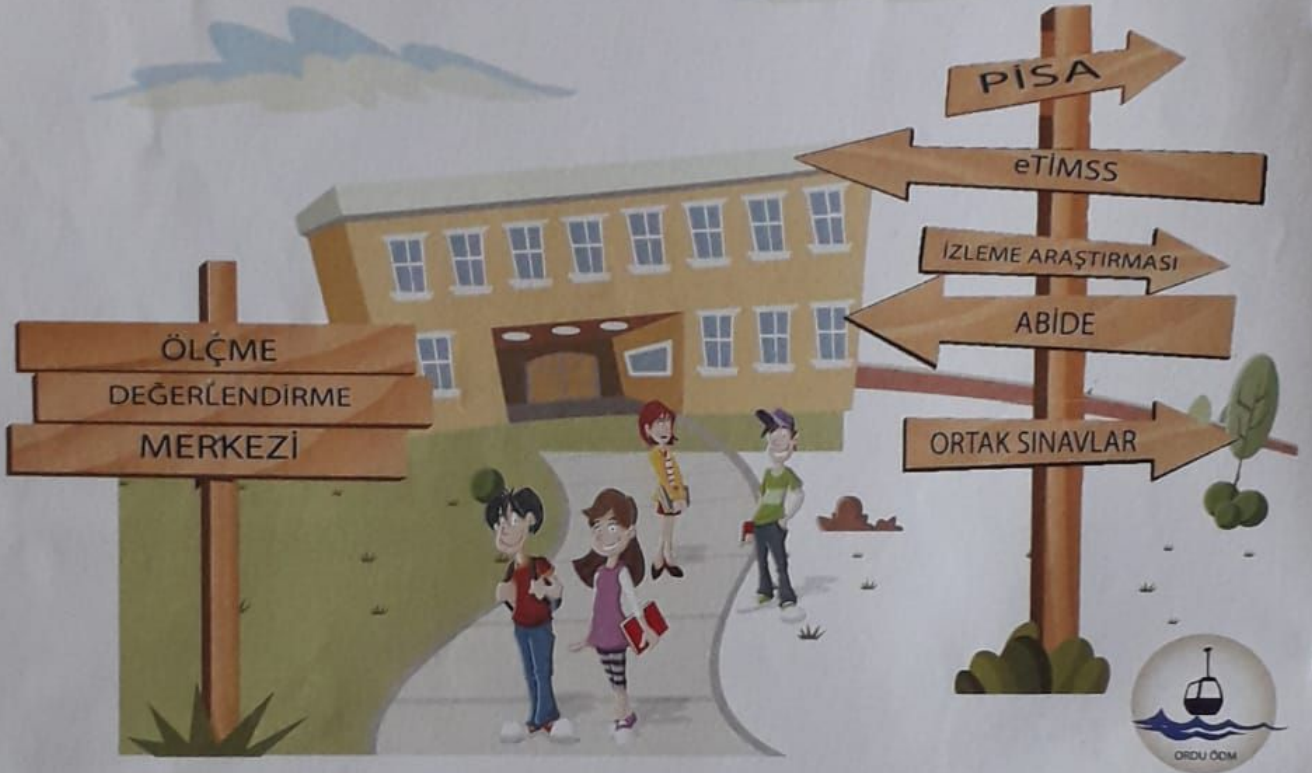
8) I. Allah şifa versin.
II. Hayırlı olsun
III. Bereket versin.

Yukarıdaki dini ifadeler sırasıyla hangi durumlarda kullanılır?

- A) Hasta birisine-Teşekkür için-Allah arttırsın dileğiyle söylenir.
- B) Teşekkür için- Tebrik için-Alay etmek için
- C) Hasta birisine- Tebrik için- Allah arttırsın dileğiyle
- D) Dua için- Helal etmek için- Alay etmek için

- 9) Hz. Muhammed'in(SAV) peygamberliğinden önce katıldığı savaş aşağıdakilerden hangisidir?
- A) Bedir Savaşı B) Ficar Savaşı
- C) Huneyn Savaşı D) Uhud Savaşı
- 10) Dini ifadelerimiz bazen atasözlerimizde de yer almaktadır. "İyilik yap denize at, balık bilmezse Halik (yaratıcı) bilir." atasözünden ne anlaşılmaktadır?
- A-) Karşılık beklemeden iyilik yapmalıyız.
- B-) Bizlere iyilik yapanlara, iyilik yapmalıyız.
- C-) İyilik yapanlar cennete girecektir.
- D-) Bize kötülük bile yapılsa iyilik yapmalıyız.

Sorularınız bitmiştir.
Cevaplarınızı Kontrol ediniz.



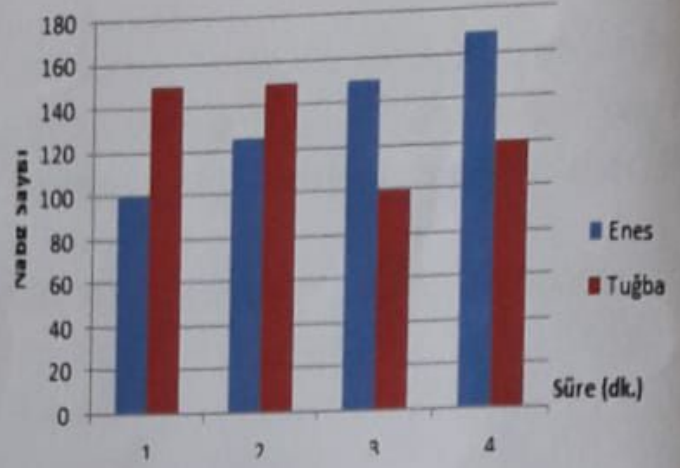
Bu kitapçığın her hakkı saklıdır. Hangi amaçla olursa olsun kitapçığın tamamının veya bir kısmının T.C. ORDU VALİLİĞİ İl Millî Eğitim Müdürlüğü'nün yazılı izni olmadan kopya edilmesi, fotoğrafının çekilmesi, bilgisayar ortamına alınması, herhangi bir yolla çoğaltılması, yayımlanması veya başka bir amaçla kullanılması yasaktır. Bu yasağa uymayanlar, doğabilecek cezai sorumluluğu ve kitapçığın hazırlanmasındaki mali külfeti peşinen kabullenmiş sayılır.

- 13) Kanın vücutta dolaşmasını sağlayan yapı ve organlar hangi şıkta doğru verilmiştir?
- A) Akciğer- Deri B) Kalp-Damarlar
C) Kemikler -Deri D) Eklemler-Kemikler

- 14) Dünya Güneşin etrafındaki bir tam dolanımını ne kadar sürede tamamlar?

- A) 1 ay B) 1 hafta
C) 1 yıl D) 24 saat

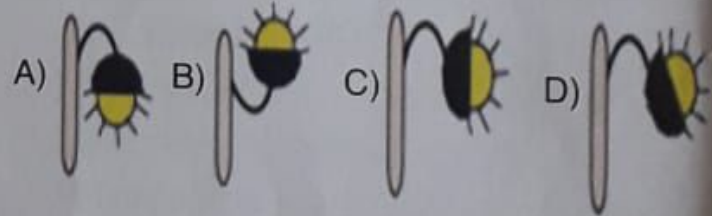
- 15) Mikroskopik canlılar ile ilgili aşağıda verilen bilgilerden hangisi yanlıştır?
- A) Mikroskopik canlılar, yere düşen bitki yapraklarını çürütür.
B) Mikroskopik canlılar hareket edemez.
C) Mikroskopik canlılar, yemeklerin bozulmasına neden olur.
D) Mikroskopik canlılar, mikroskop ile görülebilir.



- 16) Yukarıdaki sütun grafiğinde Enes ile Tuğba'nın zamana bağlı olarak değişen nabız sayıları verilmiştir. Grafiğe göre aşağıdakilerden hangisi yanlıştır?

- A) Birinci dakikada Tuğba koşuyor olabilir
B) İkinci dakikada Enes koşarak Tuğba'ya yetişmeye çalışıyor olabilir.
C) Üçüncü dakikada Tuğba daha yavaş koşmaya başlıyor olabilir.
D) Dördüncü dakikada Enes yürümeye başlıyor olabilir.

- 17) Aşağıdaki aydınlatma yöntemlerinden hangisi doğrudur?



AÇIKLAMA

1. Bu kitapçıkta BÜYÜKŞEHİR ANADOLU İMAM HATİP LİSESİ, İMAM HATİP ORTAOKULU SEÇME SINAVI'na ait Türkçe, Matematik, Sosyal Bilgiler, Din Kültürü ve Ahlak Bilgisi, Fen Bilgisi derslerine ait sorular bulunmaktadır.
2. **Bu sınav için verilen toplam süre 120 dakikadır.**
3. Kitapçık ve cevap kağıdında istenilen alanları eksiksiz doldurmadığınız takdirde sınavınızın değerlendirilmesi mümkün değildir.
4. Cevaplamaya istediğiniz sorudan başlayabilirsiniz. Her sorunun altında o soru için ayrılmış cevap kodlama kutucuklarına o soru ile ilgili cevabınızı kodlamayı unutmayınız.
5. **Soru seçeneklerine işaretlenen cevaplar kesinlikle değerlendirilmeyecektir. Yalnızca cevap kutucuklarındaki kodlamalar değerlendirilecektir.**
6. Bu kitapçıkta verilen her sorunun sadece bir doğru cevabı bulunmaktadır. Bir soru için birden fazla cevap yeri işaretlenmişse o soru yanlış cevaplandırılmış sayılacaktır.
7. Değiştirmek istediğiniz cevabı, silgi ile örselemeden temizce siliniz ve yeni cevabı kodlamayı unutmayınız. Sayfa arkasında ve üzerinde silgi kırıntısı bırakmayınız.
8. Testler cevaplanırken her testteki doğru cevaplarınızın sayısından yanlış cevaplarınızın sayısının dörtte biri çıkarılacak ve kalan sayı o bölümle ilgili ham puanınız olacaktır.
9. Kitapçığın boş sayfalarını müsvedde için kullanabilirsiniz.
10. Kitapçık ve cevap anahtarınızın yırtılmamasına ve buruşmamasına dikkat ediniz.

ORDU ÖDM

Bu Testte 20 Soru Yer almaktadır

Bu sene 10. yaş gününü hediye bir kemandı. Müziğe olan merakımı bilen canım teyzem almıştı. İlk işim kemanımı elime alıp incelemek oldu. Pastamı, doğum günümü, her şeyi unutturmuştu bana kemanım. Ayırmamalıydım onu hiç yanımdan yalnız hissetmemeliydi kendini. Gece olmuş uyku saatim gelmişti yine ve tabi ki ben canım kemanımı izleyerek uykuya dalmıştım. Hayırdır inşallah deyin bana, gece rüyamda canım teyzeme şarkılar çaldığımı gördüm . Keman çalmak hiç de görüldüğü kadar kolay değildi. Bir sürü nota vardı bilmediğim. Keman yayının bir adı varmış mesela ; adı "arşe"ymiş. Ayşe sanmayın sakın arşe ... Yay çekmek ayrı bir beceri gerektiriyormuş. O yayla da bayağı imtihan oldum rüyamda. Ama yine de güzel şarkılar dinletebilmişim canım teyzeme. Gözümü açtığımda gıy gıy sesleri hala kulağımdaydı ve ilk işim o gün hemen bir keman kursuna yazılmak oldu.

1 ve 2. Soruyu yukarıdaki metne göre cevaplayınız.

1) Metnin başlığı aşağıdakilerden hangisi olamaz?

- A)Keman Sevgisi
- B)Teyzem ve Kemanım
- C)Doğum Günüm
- D)Uyku

2) Metinde geçen "arşe " kelimesinin anlamı nedir?

- A)Rüya
- B)Uyku
- C)Keman yayı
- D)Keman

3) Aşağıda altı çizili sözcüklerden hangisi kelimenin anlamını değiştiren bir ek almıştır?

- A)Bu yemeği çok sevdim.
- B)Davullar neden çalıyor.
- C)Yeni gelen arkadaşımız İzmirli.
- D)Bu elbiseyi hangi terziye diktirdi.

4)Meyveli ağacı taşlarlar." atasözünde anlatılmak istenen nedir?

- A) Ağacı sevmedikleri
- B) Meyvenin iyi olmadığı
- C) Ağaçların meyve verdiği
- D) Değerli olanların değerini yok etmeye çalışmak

- 5) Aşağıdaki sözcüklerden hangisinde yazım yanlışı vardır?
- A) Bu ırmağı geçince köyümüze varacağız.
B) Filmi izlerken çok duygulandık.
C) Fikirini düşünmeden söyleme.
D) Top alnına vurunca yere düştü.
- 6) "Çözmek" sözcüğü hangi cümlede "bağlamak" sözcüğünün zıt anlamlısı olarak kullanılmıştır?
- A) Uğraşa uğraşa bilmeceyi çözdü.
B) Atın ayağındaki ipi çözdü.
C) Esen lodos buzları çözdü.
D) Üst geçitler trafik sorunu çözdü.
- 7) "Küçük" sözcüğü hangi cümlede ad olarak kullanılmıştır?
- A) O, küçük bir köyde oturuyor.
B) Küçük çocuklarla oynamayı çok severdi.
C) Küçük, ayaktaki yaşlı adama yerini verdi.
D) Bahçedeki küçük taşları topladık.
- 8) Aşağıdaki cümlelerin hangisinin sonuna soru işareti konulması gerekir?
- A) Çalışmaya katılacak mı, katılmayacak mı bilmiyorum
B) Resim dersini çok sevdiğin için mi seçtin
C) Hangi problemi anlamadığınızı bana söylemelisin
D) Niçin uyuyamadığınızı anlatınız
- 9) Aşağıdaki cümlelerin hangisinde topluluk adı kullanılmıştır?
- A) Bizim takım galip geldi.
B) Havalar iyice soğumaya başladı.
C) Dün yoluma köpekler çıktı.
D) Ablam müzisyen olmak istiyor.
- 10) Aşağıdaki cümlelerin hangisinde "kiminle?" sorusunun yanıtı vardır?
- A) Annemle yaptığımız uzun yolculukların tadını hala unutamam.
B) Pazardan eve kadar elindeki ağır poşetleri tek başına taşıdı.
C) Yeni yerler görmek ve farklı hayatlar tanımak onun çok hoşuna gidiyordu.
D) Gezip gördüğü yerlerde tanıştığı kişilerle fotoğraf çektiriyordu,

11) Aşağıdaki ifadeler duygusal ise başındaki bölüme "D", abartılı ise başındaki bölüme "A" harfi yazılacaktır.

(...) Uzun uzun konuşup hasret giderdiler.

(...) Ona çiçek uzatınca yüzü pancar gibi kızardı.

(...) Annesini yanında göremeyince gözleri doldu.

(...) Gökyüzünden yumruk büyüklüğünde dolu yağdı.

12) Buna göre baştaki bölümlerin doğru doldurulmuş hâli aşağıdakilerden hangisidir?

- A) a-d-d-a B) a-d-d-a
C) a-d-d-a D) a-d-d-a

12) Aşağıdaki cümlelerden hangisinde nesnel bir anlatım vardır?

- A) Trabzon, Karadeniz Bölgesi'ndedir.
B) İstanbul, dünyanın en güzel kentidir.
C) En iyi tatil yazın yapılır.
D) Son romanım çok güzeldi.

13) Aşağıdaki cümlelerden hangisi hayal ürünü olan bir ifade içermemektedir?

- A) Kuşlarla birlikte gökyüzünde süzıldüm.
B) Kedi süt denizinde yüzüyordu.
C) Çok koştuğu için nabız sayısı arttı.
D) Bulutların üzerinde oyun oynadı.

14) Aşağıdakilerden hangisinde yazım yanlışı vardır?

- A) Ailesi ile Maraşa taşınacaklar.
B) Defterimin sayfaları hemen bitti.
C) Onlarla sürekli kavga ettiler.
D) Ne zaman geleceği belli değil.

15) Aşağıdaki cümlelerden hangisinde altı çizili sözcük gerçek anlamında kullanılmamıştır?

- A) Bulutlar gökyüzünü kapladı.
B) Kardeşim yarın teyzemlerden dönecekmiş.
C) Masanın ayağı gene kırılmış.
D) Böyle konuşarak hevesimi kırma.