



ORDU İL MİLLÎ EĞİTİM MÜDÜRLÜĞÜ

PROJE İMAM HATİP ORTAOKULLARI SEÇME SINAVI 2021

B
Kitapçığı

Adı Soyadı :.....
Sınıfı/Numarası:.....
Okulu :.....

SINAV BAŞLAMADAN ÖNCE AŞAĞIDAKİ YÖNERGEYİ MUTLAKA OKUYUNUZ!

- 1.Proje İmam Hatip Ortaokulları Seçme Sınavına ait bu kitapçıkta **Türkçe 15, Matematik 15, Sosyal Bilgiler 10, Fen Bilimleri 15, Din Kültürü ve Ahlak Bilgisi 10, Yabancı Dil (İngilizce) 10 adet** olmak üzere **toplamda 75 soru** bulunmaktadır.
- 2.Sınav süresi **100** dakikadır.
- 3.Öğrenciler sınav kurallarına ve gözetmenlerin uyarılarına uymak zorundadır.
- 4.Optik formdaki bilgilerinizi doğru şekilde doldurduğunuzu sınava başlamadan önce kontrol ediniz.
- 5.Sınav başladıktan sonra öğrencilerin gözetmen ve birbirleri ile konuşmaları yasaktır.
- 6.Cevaplarınızı optik formda ilgili soru numaralarını dikkate alarak yuvarlağın dışına taşırmadan kodlayınız.
- 7.Değiştirmek istediğiniz bir cevabı yumuşak bir silgi ile cevap kağıdını yıpratmadan siliniz ve yeni cevabı kodlayınız.
- 8.Aynı soru için birden fazla cevap işaretlemeyiniz, tek bir cevap işaretleyiniz.
- 9.Soru kitapçığı üzerinde yapılıp optik formda işaretlenmeyen cevaplar değerlendirmeye alınmayacaktır.
- 10.Soruları cevaplamaya istediğiniz dersten başlayabilirsiniz.
- 11.Sınavda yanlış doğruyu götürmemektedir.
- 12.Soru kitapçığının içindeki boş alanları soru çözümleri için kullanabilirsiniz.
- 13.Sınav süresince zorunlu haller dışında dışarıya çıkılması yasaktır.
- 14.Sınav bitiminde optik formlar gözetmen öğretmene teslim edilir.

Bu testte 15 soru vardır.

Cevaplarınızı, optik forma işaretleyiniz

1. I. tomurcuklanan

II. bir çiçektir

III. sevgi

IV. nadide

V. insanın kalbinde

Numaralanmış sözcüklerle anlamlı ve kurallı bir cümle oluşturmak için sıralama aşağıdakilerden hangisidir?

A) III-IV-II-V-I

B) V-I-IV-II-III

C) IV-II-III-V-I

D) III-V-I-IV-II

2. Cümledeki anlam karışıklığını önlemek için işi yapan kişiden sonra virgül kullanılmalıdır. Aksi durumda anlatım bozukluğu oluşur.

Aşağıdakilerden hangisinde açıklamaya uygun bir anlatım bozukluğu yoktur?

A) Yabancı kadına yolu tarif etti.

B) Küçük koltuğun üzerine çıktı.

C) Simitçi adama paranın üzerini verdi.

D) Annemin fikir ve görüşünü almalıyım.

3. Aşağıda iki ayrı metin verilmiştir.



Tayininin çıktığı ilk şehirdi Ordu. Daha şehre ayak basar basmaz yeşilin maviyle olan o büyüleyici buluşmasını görebiliyorsunuz. Derin derin içime çektim yeşilin kokusunu. Hava tertemizdi. Buraya alışmam çok kolay olacaktı. Doğayı, masmavi denizi, güneşin doğuşunu doya doya seyrettim. Bütün aileme anlatacağım, cennetten bir parça olan bu güzel şehri.



Arkadaşımı ziyaret etmek için bu hafta sonu Bursa'ya gittim. Bu şehri ilk ziyaretimdi. O kadar etkileyiciydi ki gözümü alamıyordum etrafa bakmaktan. Tarihi yerleri, camileri, medreseleri, tarihe direnen yapılarıyla beni kendine hayran bırakmıştı. Buraya geldiğim için çok mutlu olmuştum ve ilk fırsatta yine gelecektim bu büyümlü şehre.

Metinlere göre bu şehirlerin ortak özelliği hangisinde verilmiştir?

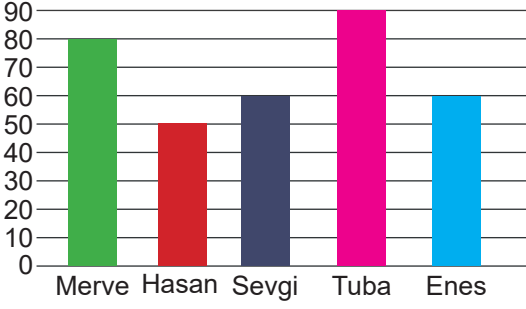
A) Aynı bölgede bulunmaları

B) Aynı amaç için ziyaret edilmeleri

C) Ziyaretçilerini etkilemeleri

D) Herkeste beğeni yaratmaları

4. Grafikte çocukların okudukları kitap sayıları verilmiştir.



Bu grafiğe göre aşağıdakilerden hangisi çıkarılamaz?

- A) Sevgi ve Enes'in okudukları kitap sayısı aynıdır.
 B) En az kitap okuyan kişi Hasan'dır.
 C) Tuba, Merve'den daha çok kitap okumuştur.
 D) Enes en çok hikâye türündeki kitapları sevmektedir.

5. Bakarsan ----, bakmazsan dağ olur.
 Besle kargayı, ---- gözünü.
 Büyük lokma ye, büyük ---- söyleme.
 Denize düşen, ---- sarılır.

Boş bırakılan yerlere getirilecek sözcükler aşağıdakilerden hangisinde sırasıyla verilmiştir?

- A) Bağ / görsün / söz / taşta
 B) Bağ / oysun / söz / yılanla
 C) Yol / soksun / saz / yılanla
 D) Yol / oysun / saz / taşta

6. Aşağıdaki cümlelerin hangisinde altı çizili sözcüğün eş seslisi yoktur?

- A) Kardeşim top oynarken sağ bileğini incitmiş.
 B) Yediğimiz üzümler bizim bağdan toplandı.
 C) Ocaktaki sütü karıştırarak tatlı yapıyordu.
 D) Yeni aldığı arabasına büyük özen gösteriyor.

7. İşleyen demir ışıldar.

İşten artmaz dişten artar.
 Güneş balçıkla sıvanmaz.

Aşağıdakilerden hangisi bu atasözlerinden birinin anlamı değildir?

- A) Çalışkanlık
 B) Tutumluluk
 C) Saklanmazlık
 D) Beraberlik

8. Aşağıdaki cümlelerden hangisi bir metnin giriş cümlesi olabilir?

- A) Ayrıca onlar da bu şekilde yapıyorlar.
 B) Sen de benim gibi davranıyorsun.
 C) Herkes bu olayın nedenini biliyor.
 D) Çilek çok sağlıklı bir meyvedir.

9. I. Nevşehir’de peri bacalarını ziyaret etmeliyiz.
II. Babamın askerlik yaptığı yer Gazi Antep’miş.
III. Şiddetli soğuklar nedeniyle Van Gölü donmuş.
IV. Gemiler, Çanakkale Boğazi’ndan geçti.

Numaralanmış cümlelerin hangisinde büyük harflerin kullanımı ile ilgili yanlışlık yapılmıştır?

- A) I ve III B) I ve IV
C) II ve IV D) I ve II

10. Aşağıda doğa ile ilgili bir görsel verilmiştir.



Bu görsel aşağıdaki cümlelerden hangisiyle eşleştirilebilir?

- A) Çevremizi temiz tutmalı, çevremizle dost olmalıyız.
B) Doğa da insan gibi beslendiği zaman sağlıklı görünür.
C) Bilinçli insanlar tabiatın kıymetini bilir.
D) Ormanları tahrip etmek, canlıların yaşam alanlarını daraltır.

11. Asık suratlı insanlardan hoşlanırmısınız desem tabii bana gülersiniz. Zaten ben de gülmeniz için söze böyle başladım. Güler yüze ve gülmeye dair olan bu konuşmayı asık suratla dinlemenizi istemem tabii. Konuşurken söze başladığınız sırada karşınızdakinin kaşlarını çattığını, asık bir suratla sizi dinlediğini görürseniz konuşma hevesiniz kırılır. Lafı kısa kesip bu tatsız sohbeti bir an önce bitirmeye bakarsınız. Bir de karşınızdakinin sizi güler yüzle dinlediğini hatta araya biraz da tatlı söz karıştırarak sohbete renk verdiğini göreceksanız konuştukça konuşacağınız gelir.

Bu metinde anlatılmak istenen nedir?

- A) Tatlı dilli, güler yüzlü insanlarla sohbet etmek insanları mutlu eder.
B) Konuşmak, insanları rahatlatır ve onlara birçok şey katar.
C) Mutsuz insanlar, etraflarına negatif elektrik saçarlar.
D) Eğitim, insanların düzgün ve samimi konuşmalarını sağlar.

12. Dal dedi ki tomurcuğa:

- Tenimde bir yara işler gibisin.

Bu cümlede aşağıdaki söz sanatlarından hangisi kullanılmıştır?

- A) Abartma
B) Benzetme
C) Konuşturma
D) Karşıtlık

13. Aşağıdaki cümlelerin hangisinde sözcüklerin tamamı gerçek anlamdadır?

- A) Ağacın gölgesinde yaşlı üç adam oturuyordu.
- B) Renkli hayaller kurup dalıp gidiyordu.
- C) Soğuk tavırlarıyla herkesi kendinden uzaklaştırıyordu.
- D) Okumak ruhunu ısıtıyor, onu aydınlatıyordu.

14. Aşağıdakilerden hangisinde “ki”nin yazımıyla ilgili bir yanlışlık yapılmıştır?

- A) Kasabadaki insanlar pazar yerinde toplanmıştır.
- B) Akşam ki yemek çok güzeldi.
- C) Onunki işten kaçmaktan başka bir şey değil.
- D) Anladım ki daha çok çalışmalıyım.

15. Atasözleri, toplumların ortak yaşamlarından edindikleri tecrübeleri aktaran, yol gösterici nitelikte söz gruplarıdır. Deyimler ise öğüt verici değil de daha çok belli bir durumu ifade edici niteliktedir.

Verilen açıklamaya göre;

- I. Damlaya damlaya göl olur.
- II. Ağzının tadı kaçmak.
- III. Ne ekersen onu biçersin.
- IV. Baltayı taşa vurmak.

Aşağıdaki deyim-atasözü eşleştirmelerinden hangisi doğrudur?

<u>Atasözü</u>	<u>Deyim</u>
A) III ve IV	I ve II
B) I ve IV	II ve III
C) I ve III	II ve IV
D) II ve IV	I ve III

Bu testte 10 soru vardır.

Cevaplarınızı, optik forma işaretleyiniz

1. Aşağıda bağımsızlık sembollerini ifade eden tablo verilmiştir.

Meclisimiz	Milli Marşımız
Bayrağımız	Okulumuz

Buna göre bağımsızlığımızın sembolü olmayan kutucuğu çıkarırsak tablonun görünümü nasıl olur?

- A)  B)  C)  D) 

2. Aşağıda gümrük kapılarımız ve geçiş sağlanan ülkeler verilmiştir.

- Kapıkule
- İpsala
- Habur
- Gürbulak
- Irak
- Yunanistan
- Bulgaristan
- Suriye
- İran

Bunlar eşleştirildiğinde hangi ülke dışarıda kalır?

- A) Suriye
B) Irak
C) Yunanistan
D) İran

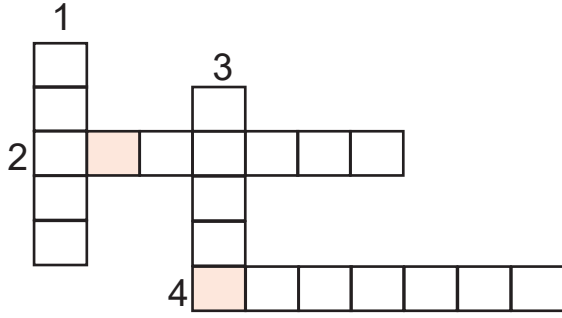
3. Aşağıda meslekler ile ihtiyaç alanlarına ait tablo verilmiştir.

MESLEKLER	İHTİYAÇ ALANLARI
Animatörlük	Beslenme
Ziraat Mühendisliği	Tarım
Makinistlik	Ulaşım
Gıda Mühendisliği	Turizm

Tabloda mesleklere göre ihtiyaç alanlarından hangi ikisi yer değiştirirse doğru olur?

- A) Tarım - Ulaşım
B) Turizm - Beslenme
C) Beslenme - Tarım
D) Tarım - Turizm

4. Aşağıda bir bulmaca verilmiştir.



1. Bir kimseye, bir şeye, dikkatli ve özenli davranmaya sebep olan duygu.
2. Bireylerde doğuştan var olan, bir işi yapabilme becerisi.
3. İnsanı, bir kimseye ya da bir şeye karşı ilgi göstermeye yönelten duygu.
4. Bir konuda duyulan gereksinim.

SEVGİ-YETENEK-İHTİYAÇ-SAYGI

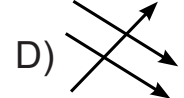
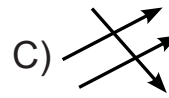
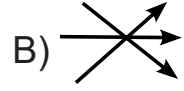
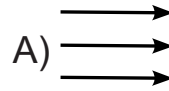
Verilen kelimeler soruların cevaplarına göre yukarıdan aşağıya veya soldan sağa doğru bulmacaya yerleştirilirse pembe kutucuklara hangi harfler denk gelir?

- A) E-İ B) H-İ C) I-E D) Y-H

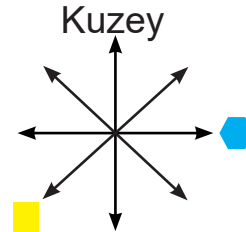
5. Aşağıda Milli Mücadele dönemimizde geçen cepheler ve kahramalarının isimleri verilmiştir.

- Doğu Cephesi • Sütçü İmam
- Güney Cephesi • İsmet İnönü
- Batı Cephesi • Kazım Karabekir

Verilen cepheler ile kahramanları eşleştirilirse hangi şekil ortaya çıkar?



6. Bir yerin, bulunduğumuz yere göre konumunu ifade etmek için yönleri kullanırız. Yönleri ana ve ara yönler olmak üzere ikiye ayırırız.



Verilen yön şemasında kare ve altıgen şekillerinin yerine gelmesi gereken yön isimleri aşağıdakilerden hangisidir?

KARE

ALTİGEN

- | | |
|--------------|-------|
| A) Güneydoğu | Batı |
| B) Güneybatı | Doğu |
| C) Kuzeybatı | Güney |
| D) Kuzeydoğu | Kuzey |

7. Aşağıdaki tabloda teknolojik ürünler veya buluşlar ile ilgili bazı bilgiler verilmiştir.

	Elektrik Edison tarafından icat edilmiştir.
	Hazerfen Ahmet Çelebi uçuş denemesi ile bilim tarihine geçmiştir.
	Bilgisayarın fazla kullanımı insanları geliştirir.
	Projeksiyon sağlık alanında kullanılan teknolojik bir alettir.

Verilen bilgilerden doğru olanların başına “D”, yanlış olanların başına “Y” harfi yazılırsa hangisi doğru olur?

- A)

D
Y
Y
Y

 B)

Y
D
Y
D

 C)

Y
D
D
Y

 D)

D
D
Y
Y

8. Aşağıda bazı öğrenciler, istek ve ihtiyaçlarımızla ilgili bilgiler vermiştir.

Ayşe: İsteklerimiz ihtiyaçlarımızdan önce gelir.

Kemal: İhtiyaçlar kişilere göre değişiklik gösterebilir.

Mehmet: Ayakkabımız yırtıldığında yeni ayakkabılar almak ihtiyaçtır.

Tuğçe: Saatimiz varken yeni saat almak istektir.

Öğrencilerden hangisinin vermiş olduğu bilgi yanlıştır?

- A) Mehmet
B) Tuğçe
C) Kemal
D) Ayşe

9. • Ülkemizde “Yavru Vatan” olarak adlandırılır.

• Başkenti Lefkoşa’dır.

• Türkiye’nin bu ülke ile ihracatında ilk sırayı petrol alır.

Verilen ipuçları ile anlatılan ülke aşağıdakilerden hangisidir?

- A) Kazakistan
B) Kıbrıs
C) Azerbeycan
D) Özbekistan

10. Aşağıda haklarımız ve sorumluluklarımızla ilgili verilen kavram haritasında yanlışlık yapılmıştır.

Haklarımız		Sorumluluklarımız	
1.	Eğitim görmek	a.	Ders çalışmak
2.	Tutumlu olmak	b.	Eğlenmek
3.	Düşünce ifadesi	c.	Saygılı olmak

Hangi rakam ve harfte yazan bilgiler yer değiştirirse yanlışlık düzelir?

- A) 1-b B) 3-a C) 2-b D) 1-c

Bu testte 10 soru vardır.

Cevaplarınızı, optik forma işaretleyiniz

1. Allah Resulü, tebliğ vazifesini yerine getirmek için Zeyd b. Hârise ile Taif'e gitti. Taif halkı, Hz. Peygamber'in davetini kabul etmedikleri gibi ona kaba da davrandılar. Köleleri ve çocukları kışkırtıp sevgili Peygamberimiz'i taşlattılar. Rahmet Peygamberi, bu durumdayken bile Taiflilere beddua etmedi. Taiflilerin İslam'ı kabul etmesi için dua etti.

Yukarıda verilen bilgilere dayanarak Hz. Muhammed ile ilgili aşağıdaki sonuçlardan hangisi çıkarılabilir?

- A) Akıllı ve zeki oluşu
- B) Merhameti ve affediciliği
- C) Sabır ve cesareti
- D) Güvenilir olması

2. 622 yılında gerçekleşen Medine'ye hicretten sonra Peygamber Efendimiz ilk olarak muhacir ve ensarı kardeş ilan etmiş, aralarında düşmanlık bulunan Evs ve Hazrec kabilelerini barıştırmış, Medine'de yaşayan Yahudilerle "Medine Sözleşmesi" adı verilen antlaşmayı imzalamıştır.

Yukarıda verilen bilgiler Peygamber Efendimizin en çok hangi özelliğini göstermektedir?

- A) Hoşgörülü olması
- B) Cesaretli oluşu
- C) Barışa önem vermesi
- D) Affedici olması

3. "Bir müslüman ağaç diker de o ağaçtan bir insan, hayvan ve kuşlar faydalanırsa bu faydalanılan şey, müslüman için sadaka olur." (Buhari, Edeb, 27.)

Verilen hadiste asıl anlatılmak istenen nedir?

- A) Sadaka verme
- B) Doğayı yeşillendirme ve koruma
- C) Hayvanları doyurma
- D) Kuşlara zarar vermeme

4. İslam, beş temel üzerine inşa edilmiştir. Allah'tan başka ilah olmadığına iman etmek, Hz. Muhammed'in Allah'ın elçisi olduğuna şahitlik etmek, namaz kılmak, ramazan orucunu tutmak, zekat vermek ve Hacca gitmektir.

Bu hadiste seçeneklerden hangisi ifade edilmiştir?

- A) İslamın şartları
- B) Namazın şartları
- C) Abdestin şartları
- D) İmanın şartları

5. Ahmet, o gün okul çıkışında babasıyla okul alışverişine gidecekti. Mustafa Bey, oğlunun elinden tutarak çarşıya doğru yürümeye başladılar. Okul ihtiyaçlarını almak için bir kırtasiyeye girdiler. Ahmet'in babası, dükkan sahibine yönelerek, "---- Rasim Bey" dedi. Kırtasiyeci Rasim Bey'de, "Aleyküm selam Mustafa Bey" diyerek karşılık verdi. Ahmet'in ihtiyaç listesi 3-5 dakika içinde hazırlanmıştı. Baba cüzdanından bir miktar para çıkarıp uzattı. Rasim Bey kendisine uzatılan parayı alıp çekmeceye koydu. Ardından para üstünü uzatırken "---- Mustafa Bey" dedi. Dükkândan poşetleri alıp çıkarken Mustafa Bey, "Hayırlı işler Rasim Bey" diyerek el salladı. Baba ve oğlu eve ulaştıklarında epeyce yorulmuşlardı. Hiç vakit kaybetmeden hazırlanan sofraya oturdular. "----" diyerek yemeye başladılar. Yemekten sonra da "----" dediler.

Yukarıdaki boşluklara sırasıyla aşağıdakilerden hangisi gelmelidir?

- A) Elhamdülillah / Bismillah / Allah bereket versin / Selamın aleyküm
- B) Allahısmarladık / Allah bereket versin / Allah'a şükür / Bismillah
- C) Selamın aleyküm / Allah'a şükür / Elhamdülillah / Allah bereket versin
- D) Selamın aleyküm / Allah bereket versin / Bismillah / Elhamdülillah

6. "Üç şey vardır ki, kim bunları yaparsa imanının tadını almış olur: Tek olan Allah'a kulluk edip O'ndan başka ilâh olmadığına inanmak, her sene malının zekâtını gönül hoşluğuyla isteyerek vermek, zekât verirken de malın yaşlı, uyuz, hasta ve zayıfını değil, vasatından vermek. Zira Allah, sizden mallarınızın en iyisini istemiyor ancak kötüsünü vermenizi de emretmiyor." (Ebu Davud, Zekat, 5)

Yukarıda verilen hadisten aşağıdakilerden hangisi çıkarılamaz?

- A) Peygamberimiz Allah'tan başka ilah olmadığına inanmamızı ister.
- B) Malımızın zekatını gönül hoşluğuyla vermeliyiz.
- C) Allah'a kulluk etmemiz gerekir.
- D) Zekâtı vermeye komşularımızdan başlamalıyız.

7. Yüce kitabımız Kur'an, bölümler halinde ve belli bir süreç içinde indirilmiştir. Ayrıca Kur'an-ı Kerim'in iç düzeni belli bir sıralama ve adlandırma ile düzenlenmiştir.

Aşağıdakilerden hangisi Kur'an-ı Kerim'in iç düzeni ile ilgili kavramlardan değildir?

- A) Sure
- B) Ayet
- C) Hatim
- D) Cüz

8. “Siz bana kendinizden altı şeyi garanti edin, ben de size cenneti garanti edeyim: Konuştuğunuzda doğru söyleyin. Söz verdiğiniz zaman onu yerine getirin. Size bir şey emanet edildiğinde onu sahibine verin. Namusunuzu koruyun. (Harama) bakmaktan sakının. Elinizi (kötü işlerden) çekin.” (Ahmed b. Hanbel, el-Müsned, C 5, s.323.)

Yukarıda verilen hadise göre aşağıdakilerden hangisi cennete gitmemizi sağlayan amellerden biri değildir?

- A) Doğru sözlü olmak
B) Emaneti korumak
C) Yardım etmek
D) Kötü işlerden uzak durmak
9. Yüce Allah kullarına doğru yolu göstermek için zaman zaman peygamberleri aracılığıyla ilahi kitaplar göndermiştir.

Peygamber kitap eşleştirmelerinden hangisi yanlıştır?

- A) Tevrat - Hz. Musa
B) Kur-an'ı Kerim - Hz. Muhammed
C) Zebur - Hz. İlyas
D) İncil - Hz. İsa

10. “Rabbin, sadece kendisine kulluk etmenizi ve anne babanıza iyi davranmanızı emretti. Onlardan biri veya ikisi senin yanında yaşlanırsa onlara öf bile deme! Onları azarlama! İkisine de gönül alıcı güzel sözler söyle. Onlara merhametle ve alçak gönüllülükle kol kanat ger. “Rabbim! Onlar nasıl küçüklükte beni şefkatle eğitip yetiştirdilerse şimdi sen de onlara merhamet göster” diyerek dua et.” (İsra Suresi, 23-24. Ayetler)

Aşağıda verilen hadislerden hangisi yukarıdaki ayetlerle aynı doğrultuda değildir?

- A) “Cennet annelerin ayağı altındadır.” (Nesai, Cihad,6.)
B) “Anne ve babasından her ikisi ya da birisinin yaşlılığına ulaştığı halde onların rızasını alıp cennete gidemeyen kişinin işleri rast gitmesin.” (Müslim, Birr, 9.)
C) “Allah’ın rızası anne babanın rızasındadır...” (Tirmizi, Birr, 3.)
D) “Akrabayla ilişkisini koparan kimse cennete giremez.” (Buhari, Edeb, 11)

Bu testte 10 soru vardır.

Cevaplarınızı, optik forma işaretleyiniz

1. a) Where do you work?	1) He is a waiter.
b) What does she like doing?	2) Yes, she likes helping people.
c) What does he do ?	3) She is a vet.
d) Is she a doctor?	4) I work at a school.
e) What is Esra's job?	5) Yes, he does.
f) Does he like growing vegetables?	6) She likes singing.

Yukarıda verilen soru ve cevapların doğru eşleştirilmesi hangi seçenekte verilmiştir?

- A) a-4 b-6 c-1 d-2 e-3 f-5
 B) a-1 b-3 c-4 d-6 e-2 f-5
 C) a-4 b-2 c-5 d-6 e-3 f-1
 D) a-4 b-3 c-5 d-2 e-6 f-1

2.

What is the weather ----?

It is rainy and cool.

May I ---- your umbrella?

Sorry, ----.

Konuşmada boş bırakılan yerlere gelecek kelimeler hangi seçenekte doğru olarak verilmiştir?

- A) today / give / of course
 B) like / borrow / I need it
 C) how / wear / it is broken
 D) in Autumn / take / it is dirty


3.

Who am I?


Hi! I am tall and slim.
 I have short blonde hair.
 My hair is wavy.

Metne göre belirtilen özelliklere uygun görseli işaretleyiniz.

A)



B)



C)



D)



4.

I like vegetables.
I like salad.

I want some soup.



I want to eat
cupcake and
drink orange
juice, too.

I like pasta
but I don't
want it now.

Verilen ifadelerde belirtilen yiyeceklerin görselleri hangi seçenekte doğru verilmiştir?

- A)
- B)
- C)
- D)

5. 1-Here you are

2-Say that again please

3-Okay. How many crayons are there?

4-Give me the red crayon please

5-Thank you.

6-The red crayon please

7-Let's draw pictures

8-There are twenty crayons

Konuşmanın anlamlı bir şekilde sıralanması için aşağıdaki seçeneklerden hangisi doğrudur?

A) 3-8-6-5-7-1-4-2

B) 4-7-1-8-3-5-2-6

C) 7-3-8-4-2-6-1-5

D) 2-4-7-3-6-1-5-8

6.

1. No, it is Matt's bike.

2. Nancy, is it your bike?

3. Do you like riding a bike?

4. Let's go to the park and slide.

5. Not much, but I like sliding.

Yukarıdaki diyalogun doğru sıralanışı hangi seçenekte verilmiştir?

A) 4 – 5 – 2 – 1 – 3

B) 5 – 4 – 3 – 2 – 1

C) 2 – 1 – 3 – 5 – 4

D) 3 – 5 – 1 – 2 – 4

7. Görseldeki çocuğun milliyeti, bayrak ve kıyafeti ile belirtilmiştir.

Buna göre sorunun cevabı aşağıdakilerden hangisidir?



Is he French?

- A) Yes, he is. B) Maybe.
C) No, he isn't. D) I don't think.

8. Aşağıda Liam ve Mary ile ilgili bir tablo verilmiştir.

Liam	✓	✗	✗
Mary	✗	✓	✓

Buna göre seçeneklerden hangisi doğrudur?

- A) Liam can't carry a bag but he can swim.
B) Mary can take photos but she can't carry a bag.
C) Liam can swim and he can take photos.
D) Mary can swim and carry a bag.

9. I wake up ---- half past seven. Then, I have breakfast and go to school. At one o'clock I have lunch at school. At half past two I ---- school. In the afternoon I watch TV and ---- my friends. I do my homework in the evening. I go to bed at ---- (10.45)

Metinde verilen boşluklara getirilmesi gereken kelimeler hangi seçenekte doğru olarak verilmiştir?

- A) at / carry / play / quarter past eleven
B) on / arrive / get on / quarter to ten
C) at / leave / meet / quarter to eleven
D) on / catch / go / quarter past ten

- 10.

	The bottle is in the box.
	Plant the flowers
	To get orange , mix red and yellow
	Cut the paper
	What is "scientist" in Turkish? It is "deney".
	The ball is under the table

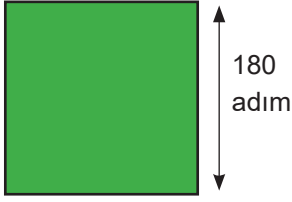
Yukarıda verilen ifadelerden kaç tanesi yanlıştır?

- A) 2 B) 3 C) 4 D) 5

Bu testte 15 soru vardır.

Cevaplarınızı, optik forma işaretleyiniz

1.



Yukarıda kare şeklindeki bahçenin etrafına 15'er adım aralıklarla ağaç dikilmiştir.

Buna göre bahçeye toplam kaç ağaç dikilmiştir?

- A) 40 B) 44 C) 48 D) 52

2. 65 l'lik elma sirkesi, 750 ml'lik şişelere dolduruluyor. Şişeler doldurulurken bir miktar elma sirkesi yere dökülüyor.

Yapılan doldurma sırasında 76 şişe tam dolduğuna göre dökülen elma sirkesi miktarı ne kadardır?

- A) 8 l B) 10 l
C) 800 l D) 80 l

3. Ordu'dan hareket eden bir otobüsün geçtiği şehirlere ait bilgiler analog saate göre aşağıdaki gibidir.

- Afyon'da olduğu saatte akrep ile yelkovan arasında doğru açı bulunmaktadır.
- Ankara'da olduğu saatte akrep ile yelkovan arasında geniş açı bulunmaktadır.
- Samsun'da olduğu saatte akrep ile yelkovan arasında dik açı bulunmaktadır.

Buna göre otobüsün şehirlerde bulunduğu saatlerden biri aşağıdakilerden hangisi olamaz?

- A) 15:00
B) 16:45
C) 18:00
D) 19:30

4. Bir ayakkabı fabrikasında üretilen 1800 adet spor ayakkabı 18'li, 720 adet terlik 6'lı, 300 adet çizme 5'li paketlenerek kolilere yerleştiriliyor.

Kolileri satış mağazasına götürmek için 40 koli kapasiteli bir kamyon tutulduğuna göre satış mağazasına ürünler kaç seferde götürülür?





- A) 5 B) 6 C) 7 D) 8

5. Ahmet Usta'nın bir evin elektrik tesisatını döşerken kullanacağı kabloların renkleri ve uzunlukları aşağıdaki tabloda verilmiştir.

Renk				
Uzunluk (cm)	3462	3257	3816	3542

Ahmet Usta, kabloları kesmeden farklı renkteki kabloları birbirine bağlamıştır.

Buna göre aşağıda bağlanan kabloların hangisinin uzunluğu 7000 cm'den azdır?

- A) 
- B) 
- C) 
- D) 

6.



Yukarıdaki şekilde sarı, kırmızı, mavi, yeşil ve turuncu renklerinden oluşan balonların adetleri, beş basamaklı bir sayının sayı değerini göstermektedir.

- Sarı balonun sayısı birler basamağının,
- Mavi balonun sayısı onlar basamağının,
- Kırmızı balonun sayısı yüzler basamağının,
- Yeşil balonun sayısı binler basamağının,
- Turuncu balonun sayısı onbinler basamağının sayı değerini vermektedir.

Buna göre beş basamaklı sayının okunuşu aşağıdakilerden hangisidir?

- A) On iki bin üç yüz otuz dört
- B) On üç bin iki yüz otuz dört
- C) Yirmi bir bin üç yüz kırk üç
- D) On iki bin üç yüz kırk üç

7.

Artan bir sayı örüntüsü oluşturduğumuzda örüntüdeki ilk terim 34'tür. Sayılar altışar artarak devam etmektedir.



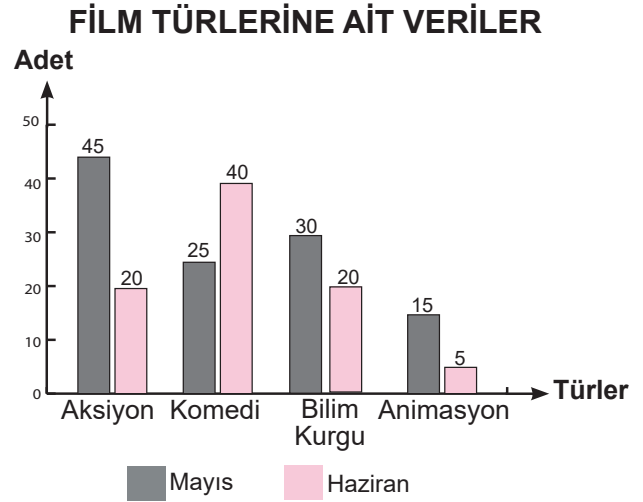
Zeynep'in ifade ettiği sayı örüntüsündeki 8. ve 9. sayılar sırasıyla aşağıdakilerden hangisidir?

- A) 70 ve 76
- B) 76 ve 82
- C) 82 ve 86
- D) 88 ve 94

8. "2,0,5,3" rakamları kullanılarak yazılabilecek, rakamları farklı dört basamaklı en büyük sayıdan; rakamları farklı üç basamaklı en küçük sayıyı çıkardığımızda sonuç kaçtır?

- A) 5117
- B) 3285
- C) 2790
- D) 1503

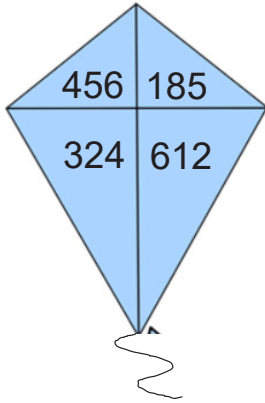
9. Aşağıdaki grafikte bir sinemanın Mayıs ve Haziran ayında gösterimde sunduğu film türlerine ait bilgiler verilmiştir.



Buna göre film türlerine ait aşağıdaki bilgilerden hangisi yanlıştır?

- A) Haziranda yayınlanan bilim kurgu filmi, komedi filminin yarısı kadardır.
- B) Mayıstaki aksiyon filmi, animasyon filminin üç katıdır.
- C) Haziranda en çok aksiyon film türü gösterime girmiştir.
- D) Haziranda 85 film gösterime girmiştir.

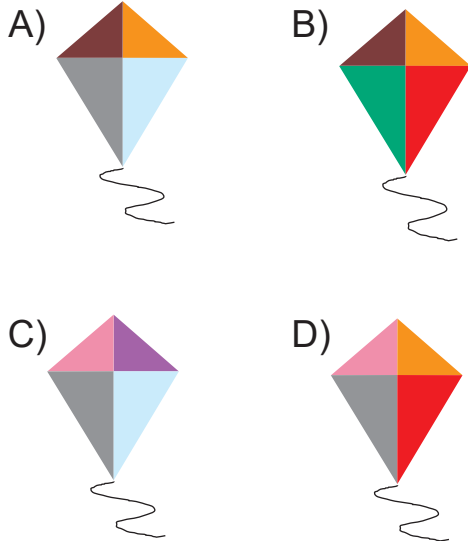
10. Görseldeki uçurtmanın dörde ayrılan bölmelerinde yazan sayılar en yakın onluğa yuvarlanıyor.



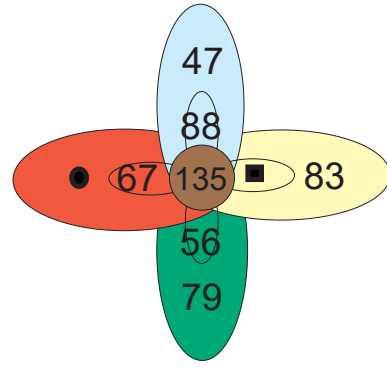
Pembe 450	Gri 320
Kahve 460	Yeşil 330
Mor 180	Mavi 610
Turuncu 190	Kırmızı 620

Uçurtmadaki sayıların bulunduğu bölümler, yuvarlama sonunda elde edilen sayıların temsil ettikleri renge boyanıyor.

Buna göre boyama sonunda aşağıdaki görsellerden hangisi oluşur?



- 11.



Görseldeki çiçekte, aynı renkte olan yapraklarda yazan sayıların toplamı ortadaki sayıyı vermektedir.

● ve ■ toplananları görselde verilmemiştir. Buna göre ■ + ● kaçtır?

- A) 140 B) 130 C) 120 D) 110


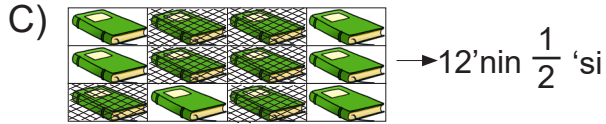


12. Sevda Öğretmen, öğrencilerinden aşağıdaki çıkarma işleminin sonucunu bulmalarını istemiştir. Öğrenciler, tahtadaki işlemi yaptıktan sonra sayıları en yakın onluğa yuvarlayıp tekrar çıkarma işlemini yapacaklardır.

$$\begin{array}{r} 946 \\ - 273 \\ \hline \end{array}$$

Buna göre öğrencilerin bulduğu gerçek sonuç ile tahmini sonuç arasındaki fark aşağıdakilerden hangisidir?

- A) 3 B) 5 C) 7 D) 9

13. Aşağıdakilerin hangisinde bütünün içinde birim kesirle ifade edilen taralı kısım yanlış verilmiştir?



14. Aşağıda verilen çarpma işleminde

■, ▲, ★ ve ● birer rakamı temsil etmektedir.

$$\begin{array}{r} 7 \blacksquare \\ \times 58 \\ \hline 5 \blacktriangle 6 \\ + 3 \star 0 \\ \hline 4 \bullet 76 \end{array}$$

Buna göre ■, ▲, ★, ● yerine gelecek rakamların birbiri ile çarpımı kaçtır?

- A) 42 B) 84 C) 90 D) 96

15. $\frac{15}{27} - \frac{A}{B} = \frac{6}{27}$


Yukarıdaki çıkarma işleminde A ve B sayısı için $(B : A) + (A \times B)$ işleminin sonucu kaçtır?


- A) 249
B) 246
C) 243
D) 240


Bu testte 15 soru vardır.


Cevaplarınızı, optik forma işaretleyiniz


1. Aşağıda devre elemanları ve devredeki görevleri eşleştirilmiştir.

1.  → Devre elemanlarının birbirine bağlantılarını sağlar.

2.  → Elektrik enerjisiyle çalışan devre elemanıdır.

3.  → Kapalı anahtar devreyi çalıştırır.

4.  → Bu konumda anahtar elektrik enerjisinin geçişini kapatır.

5.  → Devreye elektrik veren kaynaktır.

Buna göre hangi iki devre elemanının görevleri yer değiştirilirse verilen bilgiler doğru olur?

- A) 1 ve 4 B) 2 ve 3
C) 3 ve 5 D) 1 ve 5

2. 1. Demir tozu-pirinç a. Eleme
2. Kum-çakıl b. Süzme
3. Kum-su c. Mıknatıs

Yukarıda verilen karışım grupları ile ayırma yöntemlerini eşleştirecek olursak hangi seçenek doğru olur?

A)  B) 

C)  D) 

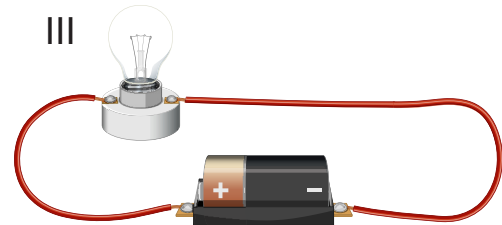
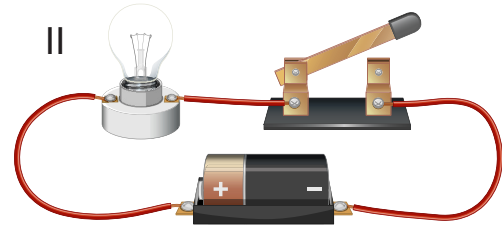
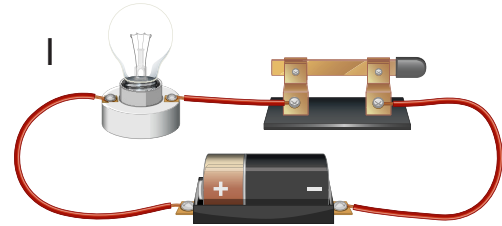
3. Aşağıdaki tabloda geri dönüşümü olan ve olmayan maddeler verilmiştir.

Cam şişe	Gazete kağıdı
Plastik kutu	Ağaç yaprakları

Tabloya göre geri dönüşümü sağlanabilen kaç tane madde vardır?

- A) 1 B) 2 C) 3 D) 4

4. Aşağıda bazı elektrik devreleri verilmiştir.



Bu devrelerden hangilerinde ampul ışık vermez?

- A) Yalnız II B) I ve III
C) II ve III D) I, II ve III

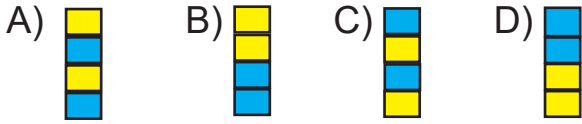
5. Dünyanın kendi eksenini etrafındaki dönme yönü saat yönünün tersinedir.

Dünya, Güneş etrafında dolanma hareketi yapar.

Dünya kendi eksenini etrafındaki dönüşünü 365 günde tamamlar.

Gece ve gündüz, Dünya'nın Güneş etrafında dönmesi sonucu oluşur.

Verilen ifadelerden doğru olanların kutusu sarıya, yanlış olanların kutusu maviye boyanırsa aşağıdaki şekillerden hangisi oluşur?



6. I. Çalıştığımız ortamlarda ışığı, gözümüze sağdan gelecek şekilde ayarlamalıyız.

II. Gereğinden fazla ya da az aydınlatılmış ortamlar gözümüzü yorar.

III. Güneş gözlüğü kullanmak göz sağlığımız açısından zararlıdır.

Yukarıda verilen bilgilerden hangileri doğrudur?

- A) Yalnız I
B) Yalnız II
C) I ve II
D) I, II ve III

7. Aşağıda bazı gıdaların görselleri verilmiştir.



Buna göre verilen gıdalar besin içerikleri bakımından gruplandırıldığında hangisi dışarıda kalır?

- A) Et
B) Limon
C) Süt
D) Yumurta



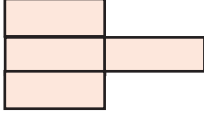
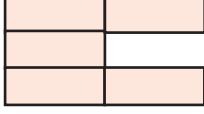
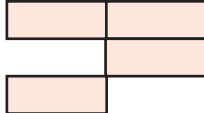
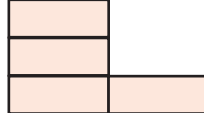
Yukarıda verilen resimleri sırayla itme ve çekme kuvveti olarak isimlendirirsek doğru cevap hangisi olur?

- A) Çekme, itme, itme
B) İtme, itme, çekme
C) İtme, çekme, itme
D) İtme, çekme, çekme

9. Aşağıdaki tabloda su ve elektriğin tasarruflu kullanımına yönelik bilgiler verilmiştir.

Bulaşıkları elde değil makinede yıkamalıyız.	Gereksiz yanan lambaları kapatmalıyız.
Diş fırçalarken suyu açık bırakmalıyız.	Ampul alırken tasarruflu ampülleri tercih etmeliyiz.
İşimiz bittikten sonra elektrikli aletlerin fişini çekmeliyiz.	Çamaşır makinesi tamamen dolmadan çalıştırmalıyız.


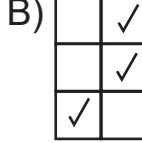

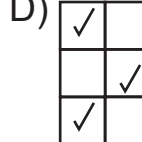
Yanlış olan bilgiler çıkarıldığında tablonun görünümü nasıl olur?

- A)  B) 
- C)  D) 

10. Aşağıdaki tabloda mıknatısın kullanıldığı yerler ile ilgili bilgiler verilmiştir.

BİLGİLER	D	Y
Pusulanın ibresinde kullanılır.
Çöplerin içindeki plastik maddeleri ayırmak için kullanılır.
Radyo televizyon bilgisayar gibi araçların yapısında kullanılır.

Tabloda boş bırakılan yerler, verilen bilgilere göre “✓” ile işaretlendiğinde doğru görünüm hangisi olur?

- A)  B) 
- C)  D) 

11. Aşağıda verilenlerden hangisi ses kirliliğinin insan sağlığına olan olumsuz etkilerinden biri değildir?

- A) Geçici veya kalıcı işitme kaybı
 B) Karaciğer rahatsızlıkları
 C) Kalp ve solunum hızında bozulma
 D) Uykusuzluk, migren

12. Işığın yanlış yerde, yanlış miktarda, yanlış yönde ve yanlış zamanda kullanılmasına ışık kirliliği denir.

Beren: Ders çalıştığımız oda fazlasıyla aydınlık olmalıdır.

Çınar: Geceleyin sokak ışıklarındaki aydınlatma seviyesi belirli bir saatten sonra düşürülmelidir.

Ada: Fazla aydınlatma ışık kirliliğine neden olur.

Meriç: Uzun süre aydınlatmaya ihtiyaç duyulan yerlerde otomat denilen sistemden yararlanılmalıdır.

Buna göre hangi ikisinin vermiş olduğu bilgi doğrudur?


A) Çınar - Meriç

B) Beren - Meriç


C) Beren - Ada

D) Çınar - Ada

13. Aşağıda madenler ve kullanım alanları verilmiştir.



a. Mücevher yapımında kullanılır.



b. İnşaat ve binalarda kullanılır.



c. Elektrik elektronik sanayisinde ve mutfak eşyalarında kullanılır.



d. Uçak ve otomobil sanayisinde kullanılır.

Verilenlere göre madenler ve kullanım amaçlarının doğru eşleşmesi hangisidir?

A) 1-a, 2-b, 3-c, 4,d

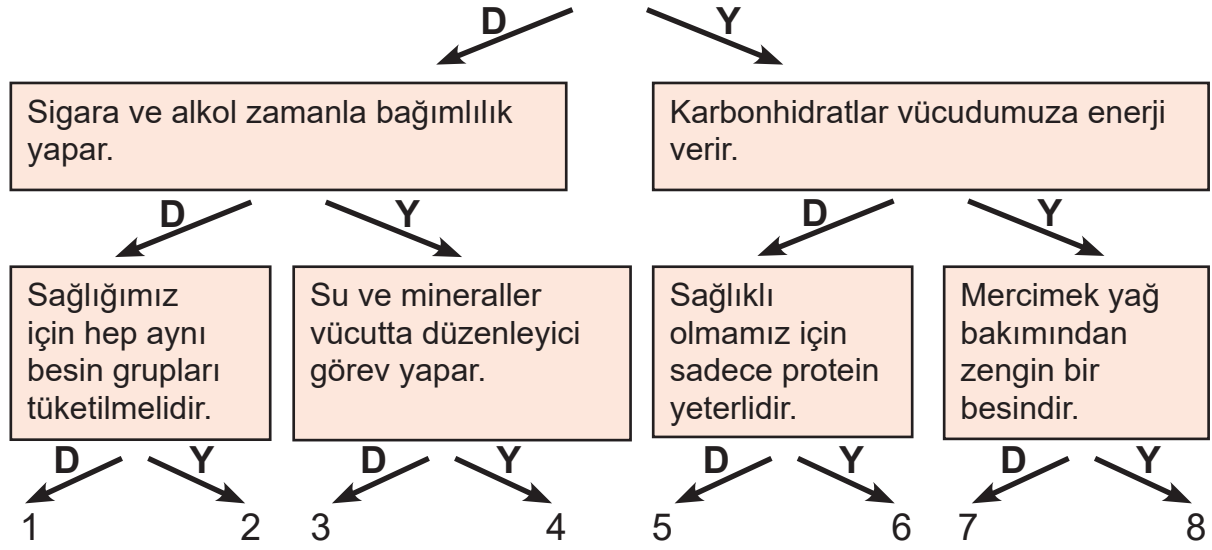
B) 1-b, 2-d, 3-c, 4-a

C) 1-d, 2-c, 3-a, 4-b

D) 1-c, 2-a, 3-d, 4,b

14.

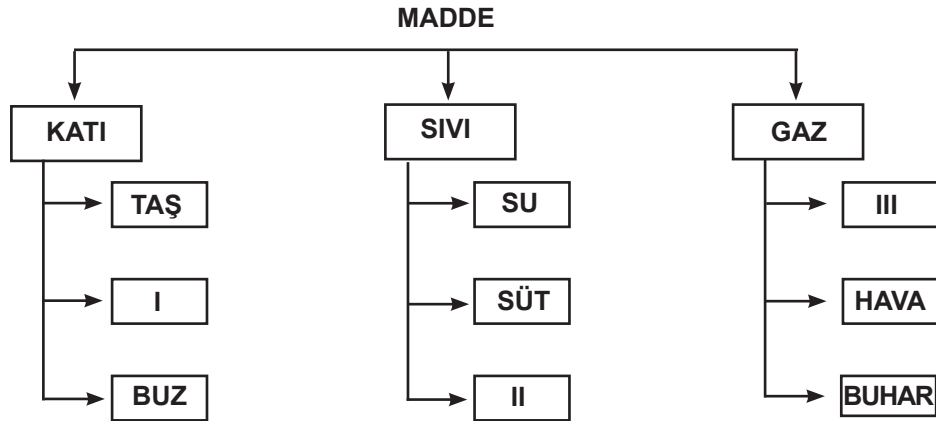
Vücudun büyümesi, yenilenmesi ve çalışması için gerekli olan enerji ve besin öğelerinin her birinin yeterli miktarlarda alınması ve vücutta uygun şekilde kullanılmasına "dengeli beslenme" denir.



Yukarıda verilen ifadelerden doğru veya yanlış seçeneklerinden ilerlediğimizde hangi çıkış kapısına ulaşırız?

- A) 2 B) 3 C) 5 D) 8

15.



Kavram haritasında I, II ve III rakamları yerine gelmesi gereken maddeler sırasıyla hangi seçenekte doğru olarak verilmiştir?

- A) Toprak, bardak, demir B) Silgi, gazyağı, limonata
C) Toprak, kolonya, oksijen D) Demir, oksijen, metal