



ORDU İL MİLLÎ EĞİTİM MÜDÜRLÜĞÜ

PROJE İMAM HATİP ORTAOKULLARI SEÇME SINAVI 2022

A
Kitapçığı

Adı Soyadı :
Sınıfı/Numarası :
Okulu :

SINAV BAŞLAMADAN ÖNCE AŞAĞIDAKİ YÖNERGEYİ MUTLAKA OKUYUNUZ!

- 1.Proje İmam Hatip Ortaokulları Seçme Sınavına ait bu kitapçıkta **Türkçe 15, Matematik 15, Sosyal Bilgiler 10, Fen Bilimleri 15, Din Kültürü ve Ahlak Bilgisi 10, Yabancı Dil (İngilizce) 10 adet** olmak üzere **toplamda 75 soru** bulunmaktadır.
- 2.Sınav süresi **100** dakikadır.
- 3.Öğrenciler sınav kurallarına ve gözetmenlerin uyarılarına uymak zorundadır.
- 4.Optik formdaki bilgilerinizi doğru şekilde doldurduğunuzu sınava başlamadan önce kontrol ediniz.
- 5.Sınav başladıktan sonra öğrencilerin gözetmen ve birbirleri ile konuşmaları yasaktır.
- 6.Cevaplarınızı optik formda ilgili soru numaralarını dikkate alarak yuvarlağın dışına taşırmadan kodlayınız.
- 7.Değiştirmek istediğiniz bir cevabı yumuşak bir silgi ile cevap kağıdını yıpratmadan siliniz ve yeni cevabı kodlayınız.
- 8.Aynı soru için birden fazla cevap işaretlemeyiniz, tek bir cevap işaretleyiniz.
- 9.Soru kitapçığı üzerinde çözümlenmiş optik formda işaretlenmeyen cevaplar değerlendirmeye alınmayacaktır.
- 10.Soruları cevaplamaya istediğiniz dersten başlayabilirsiniz.
- 11.Sınavda yanlış doğruyu götürmemektedir.
- 12.Soru kitapçığının içindeki boş alanları soru çözümleri için kullanabilirsiniz.
- 13.Sınav süresince zorunlu hâller dışında dışarıya çıkılması yasaktır.
- 14.Sınav bitiminde optik formları gözetmen öğretmene teslim ediniz.

Bu kitapçık Ordu İl Millî Eğitim Müdürlüğü tarafından hazırlanmıştır.
Her hakkı saklıdır. Yazılı izin olmadan çoğaltılamaz, yayımlanamaz veya başka bir amaçla kullanılamaz.

Bu testte 15 soru vardır.

Cevaplarınızı, optik forma işaretleyiniz.

1. “Topalla gezen aksamak öğrenir.” atasözünün benzer anlamlısı aşağıdakilerden hangisidir?

- A) Körle yatan şaşkı kalkar.
B) Kaçan balık büyük olur.
C) Canı kaymak isteyen mandayı yanında taşır.
D) Göz görmeyince gönül katlanır.

2. Dışarısı kapkaranlıktı, dikkatli¹ adımlarla bahçe kapısına doğru yürüdü. Küçük² hayvan dostuna, kapıyı açtı. Yüreğinin aydınlığı³ ile evine döndü ve huzurla⁴ uyudu.

Bu metinde numaralandırılmış sözlerin hangisi mecaz anlamda kullanılmıştır?

- A) 1 B) 2 C) 3 D) 4

3. Ezberler bozulmalı, hangi yaşta olursa olsun keşfetme duygusunu kaybetmemeli insan ve yılmamalı, düşünce kalkmayı da bilmeli.

Böyle düşünen biri için aşağıdakilerden hangisi söylenemez?

- A) Tedbirli B) Azimli
C) Meraklı D) Özgün

4. Aşağıdaki cümlelerin hangisi hayalî öge içermektedir?

- A) Bahar gelmiş, ağaçlar tomurcuklanmış, çiçekler açmıştı.
B) Bahçesindeki çiçeklerle dertleşmek onu hep rahatlatır, sakinleştirirdi.
C) Halk, kasabanın meydanında toplanmış hokkabazın gösterisini izliyordu.
D) Görmediği yerleri gezip yeni güzellikler keşfetmeyi severdi.

5. “Vakit nakittir.” demişler,
Boş geçirme zamanı
Çalış çabala üret ki
Aydınlat hep yarınını

Aşağıdakilerden hangisi bu dizelerde iletilmek istenen mesajlardan biri değildir?

- A) Planlı olmanın önemi
B) Zamanın kıymetli olması
C) Emek vermenin önemi
D) Geleceğe yararının olması

6. Aşağıdaki cümlelerin hangisinde bir yazım yanlışı vardır?

- A) Anadolu insanı cömerttir, ekmeğini de suyunu da paylaşır.
B) Masal anlatmaya başlayınca anladımki bu iş gerçekten zormuş.
C) Biriktirdiği on bin pulu müzeye bağışlamaya karar verdi.
D) Gel de gör memleketimin bin bir çeşit güzelliğini.

7.



Görselde iletilmek istenen mesaj aşağıdakilerden hangisidir?

- A) Akıl yaşta değil baştadır.
- B) El elin işini türkü söyleyerek yapar.
- C) Birlikten kuvvet doğar.
- D) İyilik eden iyilik bulur.

8. • İşini vaktinde bitirmediği için programı aksamış.
- Engin bir derya gibiydi gözlerinin mavisi.
 - Tanıdığı en komik insandı arkadaşı.

Verilen cümlelerde aşağıdakilerden hangisi yoktur?

- A) Benzetme
- B) Neden sonuç
- C) Karşılaştırma
- D) Örneklendirme

9. Aşağıdaki cümlelerde altı çizili kelimelerden hangisinin eş anlamlısı yoktur?

- A) Mühim bir işi olduğunu söyleyerek aramızdan ayrıldı.
- B) Titizlikle yaptığı araştırma sonucu, birçok delil elde etti.
- C) Tüm ikâzlara rağmen bildiğini yapması başına dert açtı.
- D) Çevresinde her zaman doğru bir insan olarak tanınır.

10. 1. Ağacın gövdesindeki derin oyuk ormandaki minik dostlarımıza barınak olmuştu.
2. Öğretmenimiz konuyla ilgili derin bir araştırma yapmamızı söyledi.
3. Derin duygularla vatan ve millet konusunu işlerdik.
4. Derin gözlemler sonucu penguenlerin yaşam şekilleri belirlendi.

“Derin” sözcüğü numaralanmış cümlelerin hangisinde aynı anlamda kullanılmıştır?

- A) 1 ve 2
- B) 1 ve 3
- C) 2 ve 4
- D) 3 ve 4

11. Yaz aylarında birçok etkinliğe katılıyorum() tenis() bisiklet yarışı() doğa yürüyüşleri()

Cümlede ayraçla gösterilen yere sırasıyla hangi noktalama işaretleri getirilmelidir?

- A) (,) (,) (,) (.)
 B) (:) (,) (,) (.)
 C) (,) (,) (,) (...)
 D) (:) (,) (,) (...)

12. Louis Palmer adlı serüvenci, 2007’de yalnızca güneş enerjisi ile çalışan “Güneş Enerjili Taksi” adlı otomobiliyle bir dünya turuna çıkmıştı. Aynı yıl Türkiye’ye de gelmiş; İstanbul, Ankara, Nevşehir ve Kayseri’den de geçmişti. 2008’de Dünya İklim Konferansı’na da katıldı. Gittiği her yerde güneş enerjisi kullanımı ile ilgili sunumlar yaptı. Dünya turunu tamamlayarak bu konudaki rekorun da sahibi oldu. Ancak Palmer’a göre turun amacı, küresel ısınmanın durdurulabileceğini ve bunun çok basit olduğunu göstermekti.

Bu metinden yapılan turla ilgili aşağıdakilerden hangisi çıkarılamaz?

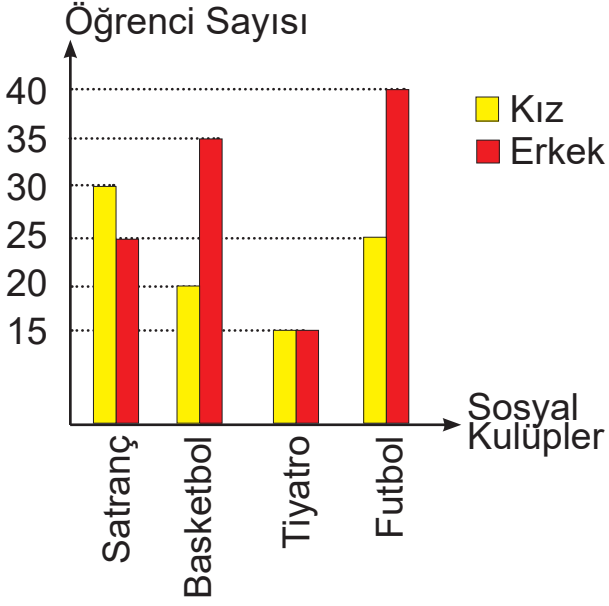
- A) Bir farkındalık oluşturulmaya çalışılmıştır.
 B) Sadece bir gezi amacı taşımamaktadır.
 C) Türkiye’de de ilgiyle karşılanmıştır.
 D) Bir doğa probleminin çözümü önerilmiştir.

13. Ornitorenkler, Tazmanya Adası’nda ve Avustralya’nın doğu kıyılarındaki nehir ve göllerde hem suda hem karada yaşar. Geniş gagasının ucunda elektrik sinyallerini hissedebilen algılayıcılar bulunur. Ayakları ördeklerinki gibi perdelidir. Kuyruğu bir kunduzunki gibi yassı ve geniştir. Ornitorenkler, çok iyi yüzer ve zamanlarının büyük bölümünü suyun altında yiyecek arayarak geçirir. Küçük balıklar, balık yumurtaları, kurbağalar, karidesler, kerevitler, böcek larvaları ve solucanlarla beslenirler.

Bu metinde ornitorenklerle ilgili aşağıdaki bilgilerden hangisine ulaşamaz?

- A) Beslenme şekillerine
 B) Fiziki özelliklerine
 C) Yaşam alanlarına
 D) İletişim şekillerine

14. Sosyal kulüplere katılan öğrenci sayıları grafikte gösterilmiştir.



Buna göre grafikten aşağıdaki ifadelerden hangisi çıkartılamaz?

- A) Futbolu seçen öğrenci sayısı, basketbolu seçen öğrenci sayısından fazladır.
- B) Satrancı tercih eden öğrenci sayısı, basketbolu tercih eden öğrenci sayısından azdır.
- C) Satrancı ve tiyatroyu seçen erkek öğrenci sayısı toplamı ile futbolu seçen erkek öğrenci sayısı eşittir.
- D) Tiyatro, kız ve erkek öğrencilerden eşit sayıda kişi tarafından seçilmiştir.

- 15.

“Rakibine meydan okuyarak mindere çıktı.” cümlesinde deyim kullanılmıştır.

D

Y

“Sırtındaki ağır küfeyi bir kenara koydu.” cümlesinde “ağır” kelimesi gerçek anlamda kullanılmıştır.

“Güçlü bir karakteri olan insan, zorluklarla mücadele eder.” cümlesinde “güçlü” kelimesi gerçek anlamda kullanılmıştır.

D

Y

D

Y

1

2

3

4

Yukarıdaki ifadeler doğru ise “D” yanlış ise “Y” yolu takip edildiğinde hangi çıkışa ulaşılır?

- A) 1 B) 2 C) 3 D) 4

Bu testte 10 soru vardır.

Cevaplarınızı, optik forma işaretleyiniz.

1. Aşağıdaki kartta resmi kimlik belgesinde bulunan bilgilerin olduğu kutucuklar sarı, diğerleri ise mavi renge boyanmıştır.



Buna göre kart hangisine aittir?

A)

Kardeş Sayısı	Anne Adı	T.C. Kimlik No.	Kapı No.
Doğum Tarihi	Telefon No.	Baba Adı	Sokak Adı

B)

Anne Adı	Telefon No.	Sokak Adı	T.C. Kimlik No.
Kardeş Sayısı	Baba Adı	Doğum tarihi	Kapı No.

C)

Baba Adı	T.C. Kimlik No.	Telefon No.	Kapı No.
Anne Adı	Kardeş Sayısı	Sokak Adı	Doğum tarihi

D)

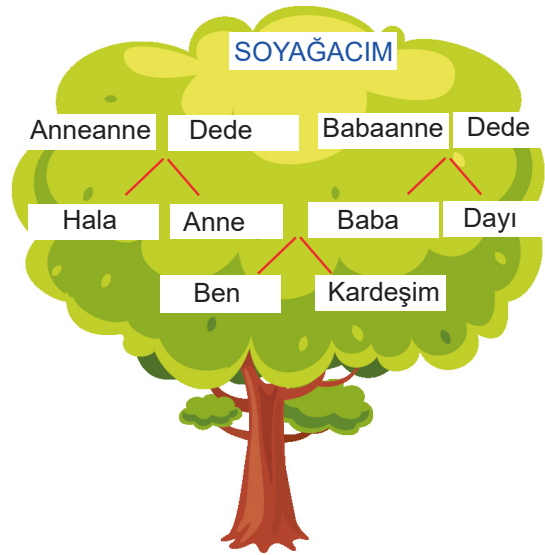
Telefon No.	Kardeş Sayısı	Kapı No	Anne Adı
T.C.Kimlik No.	Baba Adı	Doğum tarihi	Sokak Adı

2. 1. Kurtuluş Savaşı'nın amacı, yöntemi ve gerekçesi belirlenmiştir.
2. Toplanış olarak bölgesel, aldığı kararlar bakımından ulusaldır.
3. İtilaf devletleri tarafından engellenmeye çalışılmıştır.

Buna göre aşağıdakilerden hangisine ait bir bilgi verilmemiştir?

- A) Amasya Genelgesi
B) Erzurum Kongresi
C) Sivas Kongresi
D) Havza Genelgesi

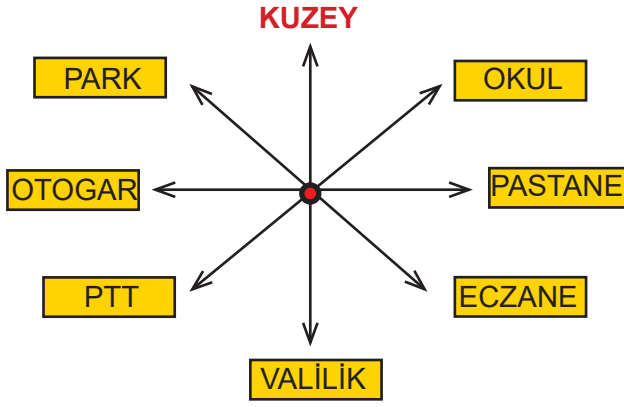
3.



Hangi kelimeler yer değiştirirse soyağacı doğru olur?

- A) Hala-Dayı
B) Anne-Baba
C) Ben-Kardeşim
D) Anneanne-Babaanne

4.



1. Valilik güneyde yer alır.
2. Otogar pastanenin batısındadır.
3. PTT güneybatı yönündedir.
4. Okul parkın güneybatısındadır.

Yukarıda verilenlere göre hangisi yanlıştır?

- A) 1 B) 2 C) 3 D) 4

5. Yarasalar, ağızdan veya burundan yayılan ultrasonik dalgalar üretmek için gırtlak kullanır. Bazı yarasalar ise bu dalgaları dillerini kullanarak tıklamalar şeklinde üretir. Yarasalar tamamen kör olmamasına rağmen karanlıkta yönlerini bulmak için çıkardıkları sesleri kullanır. Kulaklarının hassas yapısı, pasif dinlemeyle de av bulmasını sağlar.

Metinde verilen bilgilere göre yarasalardan esinlenerek yapılan teknolojik alet aşağıdakilerden hangisidir?

- A) Teleskop B) Hoparlör
C) Radar D) Röntgen

6. İhtiyaç ve isteklerimizi karşılamak için kullandığımız kaynaklar sınırsız değildir. Bu kaynaklar insanlar için vazgeçilmez unsurlardır. Bu nedenle ihtiyaçlarımızı karşılarken doğal kaynakları tasarruflu kullanmalıyız. Harcama yaparken de ihtiyaç ve isteklerimiz için öncelik sırası belirleyerek planlı ve dikkatli olmaya özen göstermeliyiz. İsteklerimizi gerçekleştiremediğimizde ise üzülebiliriz. Fakat temel ihtiyaçlarımız olan beslenme, giyinme, barınma hayatımız için daha önemlidir. Örneğin çikolata yemeden yaşayabiliriz ama su içmeden yaşayamayız.

Buna göre aşağıdakilerden hangisi bir istektir?

- A) Ayakkabısı yırtılan birinin yeni ayakkabı alması.
B) İşli olmayan bir insanın iş araması.
C) Aydınlığı seven bir insanın ışıkları açık bırakması.
D) Suları kesik olan birinin hazır su alması.

7.

SORULAR	CEVAPLAR
1. TBMM hangi tarihte açılmıştır?	a. 29 Ekim 1923
2. Cumhuriyet ne zaman ilan edilmiştir?	b. 15 Temmuz
3. Millî birlik ve beraberlik günü ne zaman kutlanır?	c. 23 Nisan 1920

Yukarıda verilen soruların cevapları uygun şekilde sıralanacak olursa hangisi doğru olur?

A) a-c-b B) a-b-c C) c-a-b D) c-b-a

8.

Çocuk Hakları Sözleşmesi, tarihte kabul gören en kapsamlı insan hakları bildirgesidir. 20 Kasım 1989'da onaylanan bu belge sayesinde çocuk hakları ulusal yasalarca tanınmıştır. 20 Kasım, dünyada "Çocuk Hakları Günü" olarak kutlanmaktadır. Türkiye 14 Ekim 1990'da bu bildirgeyi imzalamış ve bildirge 1995'te ülkemizde yürürlüğe girmiştir.

Aşağıdakilerden hangisi Çocuk Hakları Sözleşmesi'nin maddelerinden birisidir?

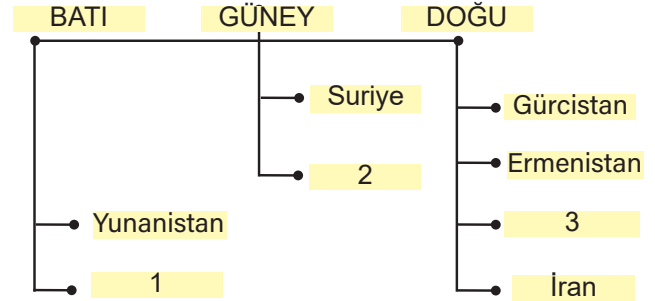
- A) Çocuklar kendi yaşına göre yapabilecekleri işlerde çalıştırılabilirler.
- B) Her çocuk fikir ve görüşlerini özgürce ifade etme hakkına sahiptir.
- C) Ailesiyle sorun yaşayan bir çocuk dilediği kişilerin yanında kalabilir.
- D) Anne ve babası ayrı ülkelerde yaşayan çocuklar istediği kişiyle yaşamayı tercih edebilir.

9. Bir öğrencinin proje ödevi şöyledir: "Üzerinde ülke bulunan altı kıtadan birer ülke seçerek bu ülkeleri tanıtınız."

Bu öğrenci beş kıtadan Cezayir, Azerbaycan, Arjantin, Kanada, Yeni Zelanda ülkelerini seçerek tanıtmıştır.

Buna göre hangi ülkeyi seçerse ödevini tamamlamış olur?

- A) Almanya B) Bezilya
C) Çin D) Fas

10. **SINIR KOMŞULARIMIZ**

Bu kavram haritasına göre 1, 2 ve 3 numaralı kutulara sırasıyla hangi ülkeler gelmelidir?

- A) Bulgaristan - Irak - Azerbaycan
B) Portekiz - İspanya - Özbekistan
C) Bulgaristan - Kazakistan - Rusya
D) Türkmenistan - Cezayir - Pakistan

Bu testte 10 soru vardır.

Cevaplarınızı, optik forma işaretleyiniz.

1. Aşağıda İslam diniyle ilgili ifadeler verilmiştir.

- “Ben kabul ederim ki Allah’tan başka ilâh yoktur. Yine kabul ederim ki Hz. Muhammed Allah’ın kulu ve resulüdür.”
- “Allah’tan başka ilâh yoktur, Hz. Muhammed Allah’ın elçisidir.”
- “Kovulmuş şeytanın şerrinden Allah’a sığınırım. Rahman ve Rahim olan Allah’ın adıyla.”

Buna göre aşağıdakilerden hangisinin tanımı yoktur?

- A) Kelime-i Şehadet
- B) Salavat
- C) Kelime-i Tevhid
- D) Eûzü Besmele

2. Peygamberimizin doğduğu dönemde Mekke’de çocuklar için uygulanan bir gelenek vardı. Süt emme çağındaki çocuklar çölde yaşayan bir sütanneye emanet edilirdi. Çocuklar büyüyene kadar ücretle emzirilmek üzere sütanesi ile alınıp obalara, kabilelerine götürülürdü.

Buna göre peygamberimizin doğduğu ve yaşadığı çevreyle ilgili hangisi doğrudur?

- A) Şehrin havası çocukların sağlığı için elverişsizdir.
- B) Mekke’de yaşamak maliyetlidir.
- C) Çocuklara kıymet verilmemiştir.
- D) Aile kültürü gelişmemiştir.

3. Lokman, oğluna öğüt vererek şöyle demişti: “Yavrum, Allah’a ortak koşma çünkü ortak koşmak elbette büyük bir zulümdür.” (Lokman, 13)

Ayet aşağıdakilerden hangisinin öneminden bahsetmektedir?

- A) Erdemli olmak.
- B) Sıla-i Rahim’de bulunmak.
- C) Allah’tan başka ilâh tanımamak.
- D) Allah’tan başkasını sevmemek.

4. Aşağıdakilerden hangisi Kur’an-ı Kerim’in iç düzeni ile ilgili yanlış bir bilgidir?

- A) Otuz sayfadan oluşan her bir bölümüne cüz denir.
- B) İlk inen ayetler Alâk suresine aittir.
- C) Yüz on dört sureden oluşmaktadır.
- D) Her bir cümlesine ayet denir.

5. 1. Ailesine ve akrabalarına Ehl-i Beyt denir.
2. O’nun için yapılan özel dualara “Salavat” denir.
3. Son haccında Veda Hutbesi’ni okumuştur.

Hız Muhammed ile ilgili verilen bilgilerden hangileri doğrudur?

- A) 1, 2, ve 3
- B) 2 ve 3
- C) 1 ve 3
- D) 1 ve 2

6. “Allah’ın elçisi ve müminler, Rabb’inden ona indirilene iman ettiler. Her biri Allah’a, meleklerine, kitaplarına, resullere inandılar. ‘Onun elçileri arasında ayırım yapmayız.’ ve ‘İşittik, itaat ettik, bağışlamayı dileriz rabbimiz, dönüş sanadır.’ dediler.” (Bakara, 285)

Ayete göre İslam’ın inanç esaslarından hangisinden bahsedilmemiştir?

- A) Kader ve kazaya iman
- B) Peygamberlere iman
- C) Meleklerle iman
- D) Allah’a iman

7. Hz. Muhammed ile ilgili verilen bilgilerden hangisi yanlıştır?

- A) Yaşadığı dönemde Mekkeliler kendisine “Muhammed el-Emin” unvanını vermişlerdir.
- B) Mekke şehrini korumak için “Hilfü’l-Fudûl” birliğine katılmıştır.
- C) İlk vahyi inzivaya çekildiği Hira Mağarası’nda almıştır.
- D) Mekke’li müşriklerle Hudeybiye Antlaşması’nı imzalamıştır.

8. Aşağıdakilerden hangisi Cahiliye Dönemi’nin özelliklerinden biri değildir?

- A) Putperestliğin yaygın olması.
- B) Allah’a şirk koşulması.
- C) Köleliğin yaygın olması.
- D) Haniflik inancının yaşatılması.

9. Enes: Bebeği olan birine “Allah bağışlasın.” derim.

Melike: Allah’a bize verdiği nimetlerden dolayı şükrederken “Estağfurullah.” derim.

Sinem: Herhangi bir şeye şaşırduğumda “Subhanallah!” derim.

Fuat: Yolculuğa çıkan birine “Allahuekber!” derim.

Hangi öğrencilerin ifadesi doğrudur?

- A) Enes ve Fuat
- B) Melike ve Fuat
- C) Enes ve Sinem
- D) Melike ve Sinem

10. “Onlara merhametle ve alçak gönüllülükle kol kanat ger. ‘Rabbim! Onlar nasıl küçüklükte beni şefkatle eğitip yetiştirdilerse şimdi sen de onlara merhamet göster.’ diyerek dua et.” (İsra, 24)

Bu ayette hangisinin öneminden bahsedilmektedir?

- A) İnsanlara yardım etmeliyiz.
- B) Zekât vermeliyiz.
- C) Herkese saygı duymalıyız.
- D) Anne babaya iyi davranmalıyız.

Bu testte 10 soru vardır.

Cevaplarınızı, optik forma işaretleyiniz.

1. Which number is missing?

32 - 33 - 34 - ? - 36

- A) Thirty-three B) Thirty-four
C) Thirty-five D) Thirty-six

2. Read and circle the correct answer.

Ivan : Hello. Welcome to Russia.
Chen: Hi.
Ivan : My name is Ivan. What is your name?
Chen : My name is Chen.
Ivan : Are you from Japan?
Chen : No. I'm Chinese.



What colour is Chen's Flag?

- A) Red and white
B) Red, white and blue
C) Red and blue
D) Red and yellow

3.

This is ---- and it is ---- guitar.
I can ---- the guitar.



Choose the best option to complete the sentences.

- A) me / my / play
B) she / my / play
C) me / her / sing
D) she / her / sing

4. A: What time do you have dinner?

B: ----.

Choose the correct option to complete the sentences.

- A) At home.
B) At six p.m.
C) At seven a.m.
D) In the evening.

5. Read the paragraph.

Alex and his sister Alice like toys and games. Alex likes playing computer games but Alice likes board games. They like flying kite.

Which one is true?

- A) Alex and Alice don't like playing together.
B) She likes computer games.
C) Alice doesn't like chess.
D) Alex and Alice like kites.

6.

I am Joe. I like growing vegetables and fruit and I have a lot of animals and a tractor. This is my friend Edgar. He likes delivering letters and he has a bike. This is my friend Rose. She works at an airport and she likes flying kite.

Which job is not mentioned in the paragraph?

- A) Vet B) Postman
C) Farmer D) Pilot

7. 1. Leave it near the window.
2. Place some pebbles.
3. Plant it.
4. Make a hole.
5. Put some soil.
6. Water it.

Choose the correct order.


- A) 4 - 5 - 2 - 3 - 1 - 6
B) 5 - 2 - 6 - 3 - 1 - 4
C) 2 - 5 - 4 - 3 - 6 - 1
D) 3 - 5 - 4 - 2 - 1 - 6
8. It is cold and freezing. It is generally snowy. We need gloves, a coat and a scarf.



Which season is it?

- A) Spring B) Summer
C) Autumn D) Winter

9.



Jennifer Rose Maria Bob Jack

I have two cousins. She is tall and blonde. She is thin and she has glasses. He is short and blonde.

Who are my cousins?

- A) Maria and Jack
B) Rose and Jack
C) Jennifer and Bob
D) Rose and Bob

10.

Timetable

English	Maths	Science	Break	Science
09.00	10.00	11.00	12.00	12.30
MENU 1 Soup, Salad, Apple Ready in twenty minutes		MENU 2 Pasta, Pizza, Fruit Ready in forty minutes		
MENU 3 Toast, Tea, Dessert Ready in fifty minutes		MENU 4 Soup, Meat, Dessert Ready in thirty-five minutes		

Which menu can I choose during break?

- A) Menu 1 B) Menu 2
C) Menu 3 D) Menu 4

Bu testte 15 soru vardır.

Cevaplarınızı, optik forma işaretleyiniz.

1. Eskişehir - İzmir arası aylara göre tren yolculuğu yapan kişi sayısı aşağıdaki tabloda verilmiştir.

Tablo: Aylara Göre Yolcu Sayısı

Aylar	Yolcu Sayısı
Haziran	17.862
Temmuz	24.157
Ağustos	18.648
Eylül	22.172

Bu verilere göre aşağıdakilerden hangisi doğrudur?


- A) $10000+600+40+8$ şeklinde çözümlenen yolcu sayısı ağustos ayına aittir.
- B) Binler basamağı 7 olan yolcu sayısı, birler basamağı 7 olan yolcu sayısından fazladır.
- C) Yüzler basamağındaki rakamın basamak değeri en büyük olan yolcu sayısı haziran ayına aittir.
- D) Haziran ve eylül ayında gelen yolcuların sayılarının binler basamağındaki rakamlar birbirine eşittir.
2. Bir okulda 4. sınıf öğrencileri için Boztepe gezisi düzenlenmiştir. Okul ile Boztepe arası 42 kilometredir. Yolun $\frac{2}{3}$ ' ü gidildikten sonra mola verilmiştir. **Moladan sonra kaç metre yol gitmeleri gerekmektedir?**
- A) 7 B) 14 C) 7000 D) 14000

3. Aşağıdaki levhalarda illerin 2021 yılına ait nüfusları verilmiştir.

NEVŞEHİR
308003



ESKİŞEHİR
898369



RİZE
345662



ERZURUM
756893



Buna göre aşağıdakilerden hangisi levhalardaki illerden birinin nüfusunun okunuşu değildir?

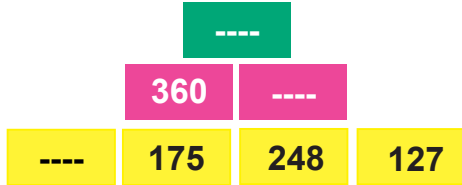
- A) Üç yüz sekiz bin yüz üç
- B) Üç yüz kırk beş bin altı yüz altmış iki
- C) Yedi yüz elli altı bin sekiz yüz doksan üç
- D) Sekiz yüz doksan sekiz bin üç yüz altmış dokuz

4. Bir ailenin aylık harcamalarıyla ilgili bilgiler aşağıda verilmiştir:

- Market ve taksit giderleri toplamı 752 TL'dir.
- Kira giderleri, market ve taksit giderleri toplamından 270 TL fazladır.
- Fatura giderleri, kira giderlerinden 468 TL fazladır.

Bu ailenin aylık harcamalarıyla ilgili hangisi söylenemez?

- A) Kira giderinin tutarını bulabiliriz.
 B) Bir aylık fatura tutarı 1490 TL'dir.
 C) Market giderinin tutarını bulabiliriz.
 D) Kira, market ve taksit giderlerinin toplam tutarını bulabiliriz.
5. Bir fındık fabrikasındaki fındıklar, aşağıdaki gibi renkli kutulara konulmaktadır.



Sarı kutularda bulunan fındıklar, toplanarak pembe kutulara, pembe kutulardaki fındıklar da toplanarak yeşil kutuya konuluyor.


Buna göre boş kutulardaki fındık sayıları hangisinde doğru verilmiştir?

<u>Yeşil</u>	<u>Pembe</u>	<u>Sarı</u>
A) 735	375	185
B) 725	475	195
C) 735	475	185
D) 725	375	195

6. Şekilde her rakam bir hayvan resmiyle gösterilmiştir.




Bu hayvanlarla aşağıdaki işlem yapılmaktadır.



Buna göre hayvanlarla kodlanan çıkarma işleminin sonucu hangisidir?

- A) 3730 B) 3812
 C) 4055 D) 4252

7.

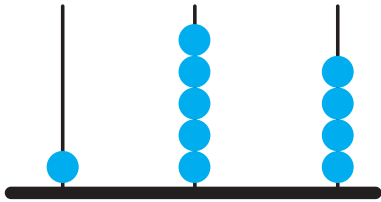


Zeynep Öğretmen, “simetri doğrusu” konusunu işlerken öğrencilerine yukarıdaki görselleri incelemelerini söylemiştir. Öğrenciler, bu görselleri inceleyip doğru çizilmiş olanları işaretlemiştir.

Buna göre öğrencilerin işaretlediği kaç görsel vardır?

- A) 6 B) 7 C) 8 D) 9

8.




Selin Öğretmen, abaküste verilen doğal sayının yüzler basamağındaki rakam ile birler basamağındaki rakamın yerini değiştirdi. Öğrencilerden, elde ettiği sayıları toplamalarını ve daha sonra toplamın 15 katını bulmalarını istedi.

Buna göre öğrencilerin bulması gereken sayı kaçtır?

- A) 4485 B) 9075
C) 10425 D) 12125

9. Aşağıda bazı ev eşyaları verilmiştir.



Askı

Radyo

Saat

Bu eşyaların şekilleri üçgen, dikdörtgen ve kare ile ilişkilendirildiğinde hangisi yanlıştır?

- A) Askının üç kenarı vardır.
B) Radyo ve saatin köşe özellikleri aynıdır.
C) Radyonun tüm kenar uzunlukları birbirine eşittir.
D) Saatin kenar sayısı, askı ve radyonun toplam kenar sayısından 3 eksiktir.

10. Yaz Festivali kapsamında yapılan konser etkinliği 19.30'da başlamış ve konsere 25 dakika ara verilmiştir. Konser başlamadan önce 360 saniye ve konsere ara verildikten sonra 420 saniye reklamlara yer verilmiştir.



Buna göre konser etkinliğinde şarkı söylenen süre kaç dakikadır?

- A) 125 B) 134 C) 142 D) 148


11. Aşağıda özdeş K ve L sürahileri verilmiştir. İki sürahinin birim kesir kadarı limonatayla doldurulacaktır.



K kabındaki limonata miktarı $\frac{1}{K}$
ve L kabındaki limonata miktarı $\frac{1}{L}$
olduğuna göre $\frac{1}{K} < \frac{1}{L}$ olabilmesi
için K ve L yerine aşağıdaki
sayılardan hangisi yazılmalıdır?

- | | <u>K</u> | <u>L</u> |
|----|----------|----------|
| A) | 2 | 5 |
| B) | 7 | 8 |
| C) | 4 | 9 |
| D) | 6 | 4 |

12.



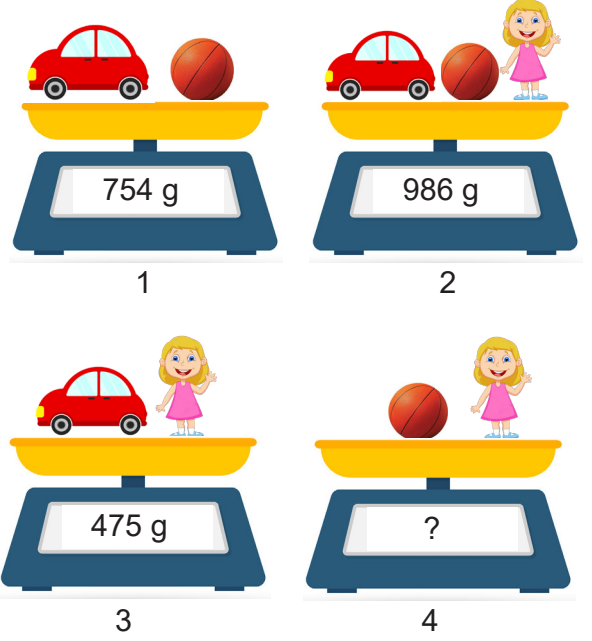
Yukarıda verilen meyve suyu miktarları litre ve mililitre arasındaki ilişkiyi göstermektedir.

- 12 adet 250 mililitrelik
- 4 adet 500 mililitrelik
- 8 adet 750 mililitrelik
- 3 adet 1000 mililitrelik

Meyve suyu kutularından alan Ayça, toplam kaç litre meyve suyu almıştır?

- A) 14 B) 11 C) 9 D) 8

13. Aşağıdaki şekilde verilen oyuncakların tartım sonuçları gram cinsinden gösterilmiştir.



Buna göre 4 numaralı tartıda bulunan oyuncakların tartım sonucu kaç gramdır?

- A) 475 B) 511 C) 743 D) 754

14. Mert, kırtasiyede bulunan malzemelerin sayısını araştırmış ve bununla ilgili verileri toplamıştır. Mert'in elde ettiği verilere göre kırtasiyede şu ürünler bulunmaktadır:


30
çanta



48
kalem



60
silgi



18
kalemlik



Mert'in bu verilerle düzenlediği şekil grafiği aşağıdakilerden hangisidir?
(Grafikler: Kırtasiyedeki malzeme sayıları)

A)



B)



C)



D)



15. Aşağıdaki ürünler eşit ağırlıktaki kavanozlara konularak tartılmıştır. Sonucu kilogram ve gram birlikte kullanılarak yazılmıştır.



Şeker

5 kg 76 g



Turşu

3 kg 5 g



Salça

6 kg 145 g



Bulgur

4 kg 62 g



Reçel

8 kg 254 g

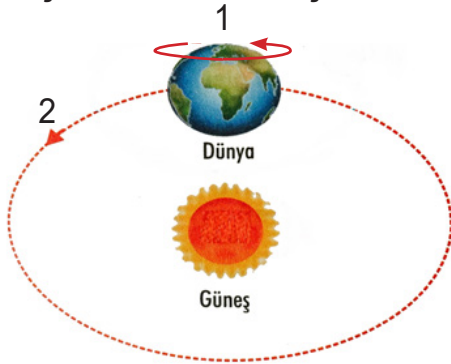
Buna göre ürünlerin gram cinsinden yazılışı hangisinde doğru verilmiştir?

	<u>Şeker</u>	<u>Turşu</u>	<u>Salça</u>	<u>Bulgur</u>	<u>Reçel</u>
A)	576	3500	6145	462	8254
B)	5076	3005	6145	4062	8254
C)	576	3500	614	4620	852
D)	5076	3050	6145	4062	825

Bu testte 15 soru vardır.

Cevaplarınızı, optik forma işaretleyiniz.

1. Aşağıda Dünya'nın Güneş etrafında dönüş hareketi verilmiştir.



Özkan, Dünya'nın 1 ve 2 numaralı hareketlerine göre aşağıdaki tabloyu doldurmak istemektedir.

	Doğru	Yanlış
1 ve 2 numaralı olay Dünya'nın dönme hareketi ile ilgilidir.		
1 numaralı hareketin sonucunda gece-gündüz oluşurken, 2 numaralı hareket sonucunda mevsimler meydana gelir.		
1 numaralı hareketin sonuçlarından biri de gün içinde gölge boyumuzun değişmesidir.		

Özkan, tabloyu nasıl doldurursa öğretmeninden tam puan alır?

A)

Doğru	Yanlış
X	
X	
X	

B)

Doğru	Yanlış
	X
X	
X	

C)

Doğru	Yanlış
	X
X	
	X

D)

Doğru	Yanlış
	X
	X
X	

2. Aşağıda bir gazete haberi verilmiştir.

HABER**Bilinen En Eski Hayvan Fosili Bulundu!**

CNN'nin haberine göre, Kanada'nın Ontario eyaletindeki Laurentian Üniversitesi Paleontoloji ve Jeoloji Profesörü Elizabeth Turner, ülkenin kuzeybatısında yüz milyonlarca yıl önce yaşamış süngerlere ait olduğu düşünülen kalıntılar keşfetti.

Turner, gün yüzüne çıkarılan fosillerin sünger iskeletleri olduğunu ve hayvan yaşamını 890 milyon yıl öncesine götürebileceğini söyledi.

Gottingen Üniversitesi Jeobiyojoloji Profesörü Joachim Reitner de söz konusu bulgulara dair "Sünger iskeletinin çok karakteristik ve bilinen, karşılaştırılabilir bir benzeri yok." dedi.

Bu haber metni ve fosil bilimi dikkate alındığında aşağıdakilerden hangisi söylenemez?

- A) Fosiller sayesinde bitki, hayvan, mantar ve kabuklu deniz canlıları hakkında birçok bilgi aydınlığa kavuşur.
- B) Fosiller bize gelecekte hangi canlıların nesillerinin tükeneceği hakkında bilgi verir.
- C) Bir canlının geçmişten günümüze kadar nasıl değişimler geçirdiği fosiller aracılığıyla anlaşılır.
- D) Yer kabuğunda meydana gelen olaylar hakkında bilgi verir.

3. Diyetisyen Enes Bey, Ata İlkokulunda bulunan öğrencilere dengeli beslenme hakkında bilgi vermek için gelirken yanında "Besin Yoncası" afişini getirmiştir.



1. Her gün mutlaka süt ve süt ürünleri, ekmek ve benzerleri, et çeşitleri, sebze ve meyve gruplarından yeterli miktarda tüketmeliyiz.
2. Her öğünde sadece proteinle beslenmek vücudumuz için çok yararlıdır.
3. İçinde bulunduğumuz pandemi günlerinde sebze ve meyve tüketimi bağışıklık sistemimizi güçlendirir.

Buna göre hangileri Enes Bey'in beslenmeyle ilgili öğütlerinden biri olamaz?

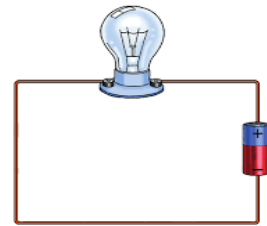
- A) Yalnız 2 B) 1 ve 3
C) 2 ve 3 D) 1, 2 ve 3

4. • Devrenin elektrik ihtiyacını karşılar.
• Devre elemanlarını birbirine bağlar.
• Devredeki elektrik akışını kontrol eder.

Buna göre görevi verilmeyen devre elemanı aşağıdakilerden hangisidir?

- A) Bağlantı kablosu B) Anahtar
C) Ampul D) Pil

5. Aşağıdaki elektrik devresinde ampulün ışık vermediği gözlenmiştir.



Buna göre devredeki ampulün ışık vermeme sebebi aşağıdakilerden hangisi olamaz?

- A) Pil bitmiştir.
B) Devrede anahtar yoktur.
C) Ampul duya iyi yerleştirilmemiştir.
D) Ampulün içindeki kıvrımlı tel kopuktur.

6. 1. Cam şişeler
2. Metal atıklar
3. Atık piller

Verilenlerden hangilerinin geri dönüşümü yapılmaktadır?

- A) Yalnız 1
B) 1 ve 2
C) 1 ve 3
D) 1, 2 ve 3

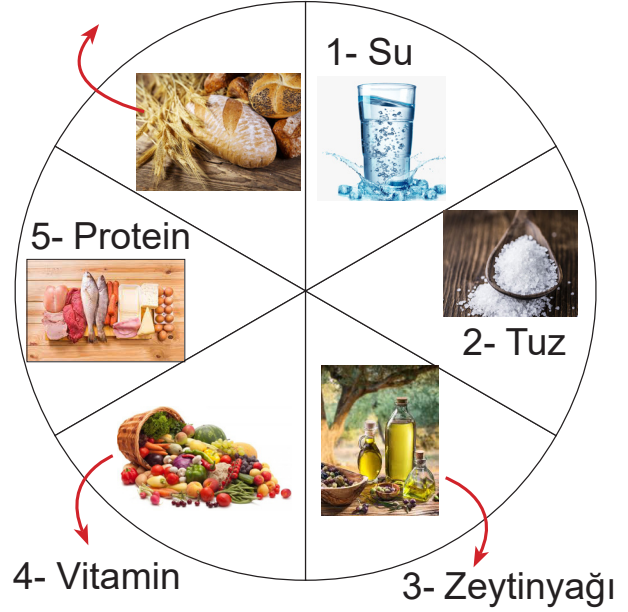
7. Ali, Mehmet ve Can top oynamak için bahçeye çıktı. Ali, ilk hamleyi yaparak topa vurdu. Top hızla Mehmet'e doğru ilerledi. Mehmet, topa vurarak Ali'nin yanında duran Can'a doğru topu attı. Can topa vuramayınca top yerde yuvarlanarak bir süre sonra durdu.

Topun harekete başlaması ve durması arasında sırasıyla kuvvetin hangi etkileri görülmüştür?

- A) Hızlandırıcı, şekil değiştirici, yön değiştirici.
B) Yavaşlatıcı, hızlandırıcı, şekil değiştirici.
C) Hızlandırıcı, yavaşlatıcı, yön değiştirici.
D) Hızlandırıcı, yön değiştirici, yavaşlatıcı.

8. Besinler içeriklerine göre karbonhidratlar, yağlar, proteinler, vitaminler, su ve mineraller olarak sınıflandırılır. Bir besin birden fazla besin içeriğine sahip olabilir. Ancak besinlerin içeriğine göre sınıflandırılması yapılarında en çok bulunan besin içeriğine göre yapılır.


6- Karbonhidrat



Buna göre aşağıdakilerden hangisi yanlıştır?

- A) 5 ile gösterilen besindeki içerik saçlarımızın ve tırnaklarımızın uzamasında rol alır.
B) 3 ve 6 ile gösterilen kısımlardaki besinler fazla tüketildiğinde aşırı kiloya sebep olur.
C) 2 ve 4 ile gösterilen besinlerdeki içerikler vücudumuzda düzenleyici olarak görev yapar.
D) 1 ve 6 ile gösterilen kısımlardaki besinler vücudumuzun büyüüp gelişmesinde etkili bir role sahiptir.

9.



Mıknatıslarla ilgili aşağıdakilerden hangisi yanlıştır?

- A) Her mıknatısın S (Güney) ve N (Kuzey) olmak üzere iki kutbu bulunur.
- B) Çamaşır makinesi ve buzdolabı gibi aletlerin yapımlarında mıknatıslardan yararlanılır.
- C) Mıknatısların aynı iki kutbunu karşı karşıya getirdiğinizde birbirlerini çekerler.
- D) Ağır yükleri taşıyan vinçler de mıknatısların kullanım alanlarından biridir.

10. Samet ve Kerem güneşli bir günde havuzun tadını çıkarıyorlardı. Çok iyi yüzme bilmemelerine rağmen can simitleri sayesinde batmıyor, havuzun bir ucundan öteki ucuna yüzüyorlardı.

Aşağıda verilen maddelerden hangisi suda, can simitleriyle aynı özelliği gösterir?

- A) Tahta kaşık B) Demir bilye
C) Cam bardak D) Porselen tabak

11. Elif, kek yapmak istemiştir. Kek yapmak için gerekli malzeme listesi aşağıdaki gibidir:

- 1 litre süt
- 500 g un
- 200 g şeker
- 3 yumurta
- 1 portakal



Dereceli Ölçü Kabı



Metre



Mutfak Tartısı



Termometre

Elif, gerekli malzemeleri ölçmek için görseldeki hangi araçları kullanmalıdır?

- A) Mutfak tartısı, dereceli ölçü kabı
B) Mutfak tartısı, termometre
C) Dereceli ölçü kabı, termometre
D) Mutfak tartısı, metre

12. **Aşağıdakilerin hangisinde farklı bir hâl değişimi vardır?**

- A) Yerdeki su birikintisi zamanla gözden kaybolur.
- B) Elimize kolonya döktüğümüzde kolonya uçar.
- C) Dondurmayı zamanında tüketmezsek sıvılaşıp külahtan akar.
- D) Denizlerdeki su, Güneş sayesinde bulutlarda su buharına dönüşür.

13. 1. Bilgisayarın ekran aydınlatması, ortamın ışığına göre daha hafif düzeyde olmalı.
2. Sağ elimizle yazıyorsak ışığın sağdan, sol elimizle yazıyorsak soldan gelmesinin sağlanması.
3. Güneş ışığına doğrudan bakılmamalı.

Yukarıdakilerden hangileri göz sağlığı için doğru bir yargıdır?

- A) 1 ve 2 B) 1 ve 3
C) 2 ve 3 D) 1, 2 ve 3

14. Işığın ve sesin gereksiz kullanılması çevre kirliliğine yol açar.

Buna göre aşağıdakilerden hangisi diğerlerinden farklı bir kirliliktir?

- A) Reklam tabelalarında çok sayıda ve parlak ampullerin kullanılması
- B) Aydınlatma ihtiyacı olmayan yerlerde aydınlatma yapılması
- C) Araçların farlarını gündüz açması
- D) İş makinelerinin sokakta uzun süre çalışması

15. Dünya'daki suların sadece %1'i içilebilir su kategorisinde yer almaktadır.

Buna göre içilebilir su kaynaklarını korumak isteyen Zeynep aşağıdakilerden hangisini yapmamıştır?

- A) Su damlatan muslukları tamir ettirmiştir.
- B) Bulaşık makinesine bulaşıkların kirlerini su ile akıtarak dizmiştir.
- C) Ellerini yıkadıktan sonra musluğu tamamen kapatmıştır.
- D) Dişlerimizi fırçalarken akan musluğu kapatmıştır.